

الأسئلة الأمتحانية

لقسم المحاسبة

للعام الدراسي

2023/2022

الكورس الثاني

الأسئلة الأمتحانية

لقسم المحاسبة

للعام الدراسي

2023/2022

الكورس الثاني الصف الاول



جمهورية العراق
وزارة التعليم العالي والبحث العلمي
جامعة البصرة



قسم نظم المعلومات الادارية الدور الاول للعام الدراسي ٢٠٢٢-٢٠٢٣
الدراسات الصباحية والمسائية

المادة : الديمقراطية ... المرحلة : الاولى ... التاريخ : ٧/٥ ... اليوم : السبت الزمن : ساعة

ملاحظة : الاجابة على خمسة اسئلة وتوزع الدرجات بالتساوي

(١٠ درجات)

١: تكلم عن مفهوم الديمقراطية بشكل مفصل مع اشكال وصور الديمقراطية؟

(١٠ درجات)

٢: عدد اهم مزايا الديمقراطية بشكل مفصل ودقيق؟

٣: تكلم عن التطور الدستوري في العراق وماهي اهم الدساتير التي مر بها العراق عددها بشكل مفصل ودقيق؟

(١٠ درجات)

٤: ماهي اهم النقاط الاساسية في اهمية الانتخابات عددها بشكل مفصل؟

(١٠ درجات)

٥: تكلم بشكل مفصل عن العلاقة بين حقوق الانسان والديمقراطية؟

(١٠ درجات)

٦: ماهي اهم الضمانات التي تكفل الحقوق والحريات العامة عددها مع الشرح؟

(١٠ درجات)

٧: تكلم عن الديمقراطية المعاصرة بأنها منهج وليست عقيدة؟

مع تمنياتي لكم بالنجاح

رئيس القسم
أ.م.د. وليد مية رودين

السيد السيد
أ.د. عبد الحسين توفيق شبلي

مدرس المادة
م.م. مسلم خريبط شريزم

المادة: رياضيات
المرحلة: الاولى
التاريخ: / / 2023
الزمن: ساعتان



أسئلة امتحان الفصل الثاني
للعام الدراسي
2023/2022



جامعة البصرة
كلية الإدارة والاقتصاد
قسم المحاسبة
الدراسة الصباحية والمسائية

$$-2 \quad \text{جد محدد المصفوفة} \quad \begin{vmatrix} -2 & 0 & 0 \\ 0 & -7 & 1 \\ 0 & 0 & -5 \end{vmatrix}$$

س5/ كون المصفوفة A من درجة 3×3 اذا كانت

$$a_{ij} = j \quad \text{فان} \quad i = j \quad -1$$

$$a_{ij} = 2j \quad \text{فان} \quad i < j \quad -2$$

$$a_{ij} = 3 \quad \text{فان} \quad i > j \quad -3$$

$$\text{ثم جد} \quad 3A - \begin{pmatrix} 2 & 3 & 2 \\ -1 & 2 & 3 \\ 5 & 0 & 3 \end{pmatrix}$$

س6/ اذا علمت ان

$$A = \begin{pmatrix} 0 & 2 & 1 \\ -1 & 4 & 1 \\ 6 & 8 & 0 \end{pmatrix}; \quad B = \begin{pmatrix} 2 & 0 \\ -1 & 1 \\ 3 & 4 \end{pmatrix}$$

جد ما ياتي:

$$AB + \begin{pmatrix} 1 & 0 \\ -1 & 2 \\ 2 & 3 \end{pmatrix} \quad (1)$$

(2) معكوس A

مع التمنيات بالنجاح

رئيس القسم

أ.م.د. الهام جعفر الشاوي

مدرس المادة

أ.م.د. بهاء عبدالرزاق

مدرس المادة

أ.م.د. علي ناصر حسين

مدرس المادة

أ. م. وفاء عبد الصمد

المادة: رياض
المرحلة: الاولى
التاريخ: / / 2023
الزمن: ساعة



أسئلة امتحان الفصل الثاني
للعام الدراسي
2023/2022



جامعة البصرة
كلية الإدارة والاقتصاد
قسم المحاسبة
الدراسة الصباحية و المسائية

الإجابة بالنم الحسبها (درجات الأثر في الإجابة)

ملاحظة: الإجابة عن خمسة أسئلة فقط - لكل سؤال 10 درجات

س1/ اختر الإجابة الصحيحة لكل مما يأتي:

1- تتميز عناصر القطر الرئيسي للمصفوفة بان ...
(أ) رقم الصف يساوي رقم العمود (ب) رقم الصف اكبر من رقم العمود
(ج) رقم الصف اصغر من رقم العمود

2- محددة المصفوفة القطرية تساوي.....
(أ) حاصل جمع عناصر القطر الرئيسي (ب) حاصل ضرب عناصر القطر الرئيسي
(ج) غير ذلك

3- يعتبر كل عدد حقيقي مصفوفة من الدرجة

(أ) 2*2 (ب) 2*2 (ج) 1*1

4- يطلق على المصفوفة التي يكون فيها عدد الصفوف مساو الى ال عدد الاعمدة

(أ) مثلثية (ب) مستطيلة (ج) مربعة

5- عملية الضرب للمصفوفات هي....

(أ) ابدالية (ب) ليس بالضرورة ابدالية (ج) ليست ابدالية

س2/ حل منظومة المعادلات الخطية الاتية

$$\begin{aligned} 3x_1 + x_2 + x_3 &= 1 \\ x_1 + 2x_2 &= -1 \\ x_1 + x_3 &= 2 \end{aligned}$$

س3/ جد قيمة x,y لذا كانت

$$\begin{pmatrix} 2x & 4 & 3+y \\ 8 & -1 & x+y \end{pmatrix} + \begin{pmatrix} 6 & -2 & -3 \\ -4y & 7 & 0 \end{pmatrix} = \begin{pmatrix} 0 & 2 & 3 \\ -4 & 6 & 0 \end{pmatrix}$$

س4/ اجب عن احد الفرعين الاتيين

1- جد محدد المصفوفة

$$A = \begin{bmatrix} 0 & 8 & 5 & 2 \\ 2 & 4 & -4 & 6 \\ 0 & 2 & 3 & 1 \\ 0 & 0 & -5 & 0 \end{bmatrix}$$



- j. provide services for ID8000 cash
- h. purchased equipment for ID3000 cash.
- i. purchase Buildings for ID1900000 on account.
- K. Received Revenues ID 3000000 cash from customers.

Q3\On January 1, 2015 Asiacelell company started business. The follow transactions took place during the first month: (Amount in 000)

- Jan 1 Asiacelell invested ID50000 cash in the company's share capital
- 2 Bought supplies of photographic material on credit ID10000
- 5 Bought photographic equipment for cash ID14000
- 7 Received fees for photographic services ID20000
- 22 Billed customers for services ID29000
- 31 paid dividends ID5000

Required// Analyze the effect of these transaction on the accounting equation(15 Marks).

Q4\Ahmed start a business On 1 November 2015 with a Capital ID 100.000 as cash. And the company engaged in the following-transactions:

- Nov. 3: Purchased office supplies ID 20.000.
- Nov. 6: Purchased office equipment on account ID 25.000.
- Nov. 16: Purchased goods for ID 35,000. Paid ID 25,000 cash and the balance on account.
- Nov. 19: sold goods for ID 30.000, Received ID 20.000 cash. and 10.000 ID on account.
- Nov. 21: payment for creditors ID20.000 cash.
- Nov. 26: Received ID 10.000 from customers.
- Nov. 28: Paid office rent for the month of November ID 17.000.
- Nov. 30: Paid salary for the month of November ID 15.000.

Required /journalize the transactions and post to a cash account only. (15 Marks).

A.D Abdul Hussein T.shibli

A.P.D Elham .J. Hameed

A.L. Hanan S. Mahdi

A.L.Zainab .j.Salam



Answer three questions, with the first being among them
Multiple Choices: Choose the correct answer and show the computations if any (20

1. Input Business transactions does not include:- (A- Balance sheet b-sales
c- Material d- purchase)
2. Liabilities of a company would not including :- (a. notes payable. b. equipment
c. wages payable. d. accounts payable.)
3. Internal user include :(A- Investors b-Management c. Lenders d. Customers)
4. Al-Salamy company purchases goods on account for \$6000, then
(a. Assets and liabilities both decrease by \$6000. b. Stockholders' equity increases
by \$6000.
c. Assets increase by \$6000 and liabilities decrease by \$6000. d. Assets and liabilities
both increase by \$6000.)
5. One of the following is not an asset: a. Inventory. b. Equipment. c. Building d.
Notes Payable.
6. outputs of accounting operation would not include : (a-purchases b-Balance
sheet c-Cash flow statement d- statement of changes in equity)
7. Personal accounts are defined by personal names including all types of economic
entities such as:- (a- Ali's account A/C b- Building c-plant d- Land)
8. Real accounts are an assets accounts either tangible and intangible assets
including:(a- building b-suppliers c-Purchases d-Rent)
9. Nominal accounts are not including:(a-land b- losses c-profit d-Expenses)
10. External user include : (A- Management b- Employees c- Creditors)

AT Sea Company a service company provide service to customer, prepare the journal
ries for the transactions below. (15 Marks).

purchased supplies cash for ID2000.

paid wages to employee for the month for ID5000.

purchase furniture from AL Ali Furniture Company for ID5000000 paid ID3000000
d the balance on account.

contract was signed with a newspaper for a ID250 advertisement but the amount not
d until next month.

purchased merchandise for ID12500 of this amount ID12000 paid and the balance
ected to pay within 30days.

aid ID500 cash for net expenses



جمهورية العراق
وزارة التعليم العالي والبحث العلمي
جامعة البصرة



قسم نظم المعلومات الادارية الدور الاول للعام الدراسي ٢٠٢٢-٢٠٢٣
الدراسات الصباحية والمسائية

المادة : الديمقراطية... المرحلة : الاولى ... التاريخ : ٧/١٥... اليوم : السبت الزمن : ساعة

ملاحظة : الاجابة على خمسة اسئلة وتوزع الدرجات بالتساوي

- ١: تكلم عن مفهوم الديمقراطية بشكل مفصل مع اشكال وصور الديمقراطية؟ (١٠ درجات)
- ٢: عدد اهم مزايا الديمقراطية بشكل مفصل ودقيق؟ (١٠ درجات)
- ٣: تكلم عن التطور الدستوري في العراق وماهي اهم الدساتير التي مر بها العراق عددها بشكل مفصل ودقيق؟ (١٠ درجات)
- ٤: ماهي اهم النقاط الاساسية في اهمية الانتخابات عددها بشكل مفصل؟ (١٠ درجات)
- ٥: تكلم بشكل مفصل عن العلاقة بين حقوق الانسان والديمقراطية؟ (١٠ درجات)
- ٦: ماهي اهم الضمانات التي تكفل الحقوق والحريات العامة عددها مع الشرح؟ (١٠ درجات)
- ٧: تكلم عن الديمقراطية المعاصرة بأنها منهج وليست عقيدة؟ (١٠ درجات)

مع تمنياتي لكم بالنجاح

رئيس القسم
أ.م. د. وليد مية رودين

السيد السيد
أ.د. عبد الحسين توفيق شبلي

مدرس المادة
م.م. مسلم خريبط شريدم



Note\ Answer three questions, with the first being among them

Q1: Multiple Choices: Choose the correct answer and show the computations if any (20 Marks).

1. Input Business transactions does not include:- (A- Balance sheet b-sales
c- Material d- purchase)
2. Liabilities of a company would not including :- (a. notes payable. b. equipment
c. wages payable. d. accounts payable.)
3. Internal user include :(A- Investors b-Management c. Lenders d. Customers)
4. Al-Salamy company purchases goods on account for \$6000, then
(a. Assets and liabilities both decrease by \$6000. b. Stockholders' equity increases
by \$6000.
c. Assets increase by \$6000 and liabilities decrease by \$6000. d. Assets and liabilities
both increase by \$6000.)
5. One of the following is not an asset: a. Inventory. b. Equipment. c. Building d.
Notes Payable.
6. outputs of accounting operation would not include : (a-purchases b-Balance
sheet c-Cash flow statement d- statement of changes in equity)
7. Personal accounts are defined by personal names including all types of economic
entities such as:- (a- Ali's account A/C b- Building c-plant d- Land)
8. Real accounts are an assets accounts either tangible and intangible assets
including:(a- building b-suppliers c-Purchases d-Rent)
9. Nominal accounts are not including:(a-land b- losses c-profit d-Expenses)
10. External user include : (A- Management b- Employees c- Creditors)

Q2\ AT Sea Company a service company provide service to customer, prepare the journal
entries for the transactions below. (15 Marks).

- a. purchased supplies cash for ID2000.
- b. paid wages to employee for the month for ID5000.
- c. Purchase furniture from AL Ali Furniture Company for ID5000000 paid ID3000000
and the balance on account.
- d. a contract was signed with a newspaper for a ID250 advertisement but the amount not
paid until next month.
- e. purchased merchandise for ID12500 of this amount ID12000 paid and the balance
expected to pay within 30days.
- f. paid ID500 cash for net expenses



provide services for ID8000 cash

purchase equipment for ID3000 cash.

purchase Buildings for ID1900000 on account.

received Revenues ID 3000000 cash from customers.

Q3) On January 1, 2015 Asiaccell company started business. The follow transactions took place during the first month: (Amount in 000)

Jan 1 Asiaccell invested ID50000 cash in the company's share capital

2 Bought supplies of photographic material on credit ID10000

5 Bought photographic equipment for cash ID14000

7 Received fees for photographic services ID20000

22 Billed customers for services ID29000

31 paid dividends ID5000

required// Analyze the effect of these transaction on the accounting equation(15 Marks).

Ahmed start a business On 1 November 2015 with a Capital ID 100.000 as cash. And company engaged in the following transactions:

Nov. 3: Purchased office supplies ID 20.000.

Nov. 6: Purchased office equipment on account ID 25.000.

Nov. 16: Purchased goods for ID 35,000. Paid ID 25,000 cash and the balance on account.

Nov. 19: sold goods for ID 30.000, Received ID 20.000 cash. and 10.000 ID on account.

Nov. 21: payment for creditors ID20.000 cash.


Nov. 26: Received ID 10.000 from customers.

Nov. 28: Paid office rent for the month of November ID 17.000.


Nov. 30: Paid salary for the month of November ID 15.000.


required /journalize the transactions and post to a cash account only. (15 Marks).


D Abdul Hussein T. shibli


A.P.D Elham .J. Hameed


A.L. Hanan S. Mahdi


A.L. Zainab .j. Salam



University of Basrah
College of Administration & Economics
Department of Accounting
Second Course Exam-First Attempt



2022-2023
Subject : English Stage : First Moring - Evening Stu. Time : 2 hours Date :

Note: For each question below, Answer either A or B.

Q1: A. Fill in the spaces with suitable accounting terms: (10 Marks)

Fixed assets are long-term assets, such as buildings or machinery, that are used in the operations of a business. The (a) _____ is the master record of all financial transactions for a company. (b) _____ is the difference between revenue and the cost of goods sold. (c) _____ refers to the stock of goods that a company has on hand to sell. (d) _____ are the costs incurred in the day-to-day running of a business, such as salaries or rent. (e) _____ is the value of the assets that a business owner has invested in the business.

B. Writing a sample of letter in one of the following topics:

1. Sample of Circular letter.
2. Sample of Business letter.

Q2: A. Select the correct answer to fill in the spaces in the following: (10 MARKS)

1. The auditor _____ the company's financial records for days before finding the discrepancy. (REVIEW: Past Perfect Continuous).

a- was reviewing. b- had reviewed. c- has been reviewing. d- reviewed.

2. We _____ all the accounts as of the end of last month. (RECONCILE: Present Perfect).

a- will reconcile. b- have reconciled. c- are reconciling. d- had reconciled.

3. The accounting team _____ the budget report throughout the week. (PREPARE: Future Continuous).

a- will be preparing. b- will prepare. c- will have prepared. d- will have been preparing.

4. The company _____ the financial statements by the deadline. (GENERATE: Future Perfect).

a- will have generated. b- will be generating. c- will generate. d- will have been generating.

5. The company _____ all sales transactions in the sales journal. (RECORD: Present Simple).

a- is recording. b- has recorded. c- has been recording. d- records.

B. Write down the correct form of the verb given in the bracket to make a sentence into the simple past tense (choose five only) :

1. You _____ my window's glass. (break)
2. I _____ something near that place. (see)
3. He _____ from London sometimes ago. (come)
4. She _____ an iPhone. (buy)
5. He _____ anyone yet for the mission. (not/choose)
6. _____ they _____ with the committee? (speak)

Q3: A- Select the correct choice from the terms in the following table to fill in the blanks below: (10 MARKS)

Capital expenditure	Book value	Cost of goods sold	Asset turnover
Accrual	Fixed assets	Equity financing	Depreciation expense

An audit trail is a record of all financial activities, including transactions and changes to accounts. (1) _____ is the value of an asset as it appears in the company's financial records, and is calculated by subtracting accumulated depreciation from the original purchase price. (2) _____ refers to money spent on long-term investments, such as property or equipment. The (3) _____ is the cost incurred to produce or purchase goods.



University of Basrah
College of Administration & Economics
Department of Accounting
Second Course Exam-First Attempt
2022-2023



Subject : English Stage : First Moring - Evening Studies Time : 2 hours Date :

... sold by a business. (4) _____ is the reduction in value of an asset over time due to wear and tear or
... (5) _____ refers to raising money by selling shares of ownership in a business.

... the following sentences given below and identify the past tense form used (choose five only):

- ... was reading magazine.
- ... children were playing hide and seek.
- ... had done his task before the teacher came.
- ... had seen Raj five years before.
- ... is getting worried about your health.
- ... child had been crying for hours.

Re-write the following sentences with the correct required tense: (10 MARKS)

- Bookkeeper _____ the daily transactions into the accounting system. (INPUT: Present Continuous).
- Financial analysts _____ the data for the entire quarter before presenting their findings to management. (ENTER: Future Perfect Continuous).
- Company _____ its taxes before the due date next month. (PAY: Simple Future).
- Bookkeepers _____ all the expenses in the general ledger. (ENTER: Simple Present).
- Accountant _____ preparing the tax returns before the deadline. (FINISH: Past Perfect).

... the following sentences into different forms of the present tense given in brackets (choose five only):

- ... had been shining brightly since morning. (present perfect continuous tense)
- ... has eaten all the butter. (present continuous tense)
- ... artist mixes the colors. (present continuous tense)
- ... are watching TV. (present continuous tense)
- ... hadmaster wanted to speak to you. (simple present tense)
- ... ate all the chocolates. (simple present tense)

... write at least (100 words about one of the following topics: (10 MARKS)

- ... daily routine. OR
- ... favorite food.

... down the correct form of the verb given in the bracket to make a sentence into the present perfect (choose five only):

- _____ his friend in the 100 m race. (beat)
- Monkey _____ on his leg in the jungle. (bite)
- _____ all the documents carefully? (keep)
- _____ every where in the kitchen. (blow)
- _____ anything yet for the party wearing. (not/ choose)
- _____ this task completely? (do)

Lecturer

Lecturer

Head of Department

Dr. Sabah Al-Mutairi

Dr. Aya M. Abood

Dr. Elza Al-Shawi



جامعة البصرة
كلية الادارة والاقتصاد
قسم المحاسبة
اسئلة الامتحان النهائي
الفصل الثاني - الدور
للعام الدراسي ٢٠٢٢-٢٠٢٣



سورجها

الزمن : ساعتان

التاريخ : / / ٢٠٢٣

المرحلة : الاولى

اللغة العربية

ملاحظة : اجب عن اربعة اسئلة فقط

السؤال الاول : (١٢,٥ درجات)

لما ياتي في جمل تامة :

- ١- مبتدا مجرور بـ (رب)
- ٢- مبتدا خبره جملة اسمية
- ٣- مبتدا محذوف جوازا لوقوعه بعد القول
- ٤- خبر محذوف جوازا
- ٥- خبر تقدم على المبتدا

السؤال الثاني : (١٢,٥ درجات)

الفرق بين الجملتين الاتيتين واعرب ما تحته خط :

اين ابوك؟ في المسجد

ما بيدك؟ كتاب

السؤال الثالث : (١٢,٥ درجات)

ب ما ياتي اعربا مفصلا :

- ١- قال تعالى : ((والنجم والشجر يسجدان))
- ٢- قال تعالى ((فيها عين جارية))

السؤال الرابع : (١٢,٥ درجات)

ف الغزل العذري واذكر مميزاته واستشهد بنموذج منه .

السؤال الخامس : (١٢,٥ درجات)

ف المعلقات واذكر اربعاً منها

مع تمنياتنا لكم بالنجاح

أ.م.د. الهام جعفر الشاوي
رئيسة القسم

أ.د. صباح عبدالكريم مهدي
مدرس المادة



جامعة البصرة
كلية الإدارة والاقتصاد
قسم المحاسبة
اسئلة الامتحان النهائي
الفصل الثاني - الدور
للعام الدراسي ٢٠٢٢-٢٠٢٣



الزمن : ساعتان

التاريخ : / / ٢٠٢٣

المرحلة : الاولى

اللغة العربية

ملاحظة : اجب عن اربعة اسئلة فقط

سؤال الاول : (١٢,٥ درجات)

لما ياتي في جمل تامة :

- ١- مبتدا مجرور بـ (رب)
- ٢- مبتدا خبره جملة اسمية
- ٣- مبتدا محذوف جوازاً لوقوعه بعد القول
- ٤- خبر محذوف جوازاً
- ٥- خبر تقدم على المبتدا

سؤال الثاني : (١٢,٥ درجات)

الفرق بين الجملتين الاتيتين واعرب ما تحته خط :

اين ابوك؟ في المسجد

ما بيدك؟ كتاب

سؤال الثالث : (١٢,٥ درجات)

رب ما ياتي اعرباً مفصلاً :

١- قال تعالى : ((والنجم والشجر يسجدان))

٢- قال تعالى ((فيها عين جارية))

سؤال الرابع : (١٢,٥ درجات)

رف الغزل العذري واذكر مميزاته واستشهد بنموذج منه .

سؤال الخامس : (١٢,٥ درجات)

رف المعلقات واذكر اربعاً منها

مع تمنياتنا لكم بالنجاح

أ.م.د. الهام جعفر الشاوي
رئيسة القسم

أ.د. صباح عبدالكريم مهدي
مدرس المادة



Note\ Answer three questions, with the first being among them

Q1: Multiple Choices: Choose the correct answer and show the computations if any (20 Marks).

1. Input Business transactions does not include:- (A- Balance sheet b-sales
c- Material d- purchase)
2. Liabilities of a company would not including :- (a. notes payable. b. equipment
c. wages payable. d. accounts payable.)
3. Internal user include :(A- Investors b-Management c. Lenders d. Customers)
4. Al-Salamy company purchases goods on account for \$6000, then
(a. Assets and liabilities both decrease by \$6000. b. Stockholders' equity increases
by \$6000.
c. Assets increase by \$6000 and liabilities decrease by \$6000. d. Assets and liabilities
both increase by \$6000.)
5. One of the following is not an asset: a. Inventory. b. Equipment. c. Building d.
Notes Payable.
6. outputs of accounting operation would not include :(a-purchases b-Balance
sheet c-Cash flow statement d- statement of changes in equity)
7. Personal accounts are defined by personal names including all types of economic
entities such as:- (a- Ali's account A/C b- Building c-plant d- Land)
8. Real accounts are an assets accounts either tangible and intangible assets
including:(a- building b-suppliers c-Purchases d-Rent)
9. Nominal accounts are not including:(a-land b- losses c-profit d-Expenses)
10. External user include :(A- Management b- Employees c- Creditors)

Q2\AT Sea Company a service company provide service to customer, prepare the journal
entries for the transactions below. (15 Marks).

- a. purchased supplies cash for ID2000.
- b. paid wages to employee for the month for ID5000.
- c. Purchase furniture from AL Ali Furniture Company for ID5000000 paid ID3000000
and the balance on account.
- d. a contract was signed with a newspaper for a ID250 advertisement but the amount not
paid until next month.
- e. purchased merchandise for ID12500 of this amount ID12000 paid and the balance
expected to pay within 30days.
- f. paid ID500 cash for net expenses



- provide services for ID8000 cash
- purchased equipment for ID3000 cash.
- purchase Buildings for ID1900000 on account.
- received Revenues ID 3000000 cash from customers.


Q3) On January 1, 2015 Asiaccell company started business. The follow transactions took place during the first month: (Amount in 000)


- Jan 1 Asiaccell invested ID50000 cash in the company's share capital
 - 2 Bought supplies of photographic material on credit ID10000
 - 5 Bought photographic equipment for cash ID14000
 - 7 Received fees for photographic services ID20000
 - 22 Billed customers for services ID29000
 - 31 paid dividends ID5000
- Required// Analyze the effect of these transaction on the accounting equation(15 Marks).


Ahmed start a business On 1 November 2015 with a Capital ID 100.000 as cash. And company engaged in the following transactions:


- 3: Purchased office supplies ID 20.000.
 - 6: Purchased office equipment on account ID 25.000.
 - 16: Purchased goods for ID 35,000. Paid ID 25,000 cash and the balance on account.
 - 19: sold goods for ID 30.000, Received ID 20.000 cash. and 10.000 ID on account.
 - 21: payment for creditors ID20.000 cash.
 - 26: Received ID 10.000 from customers.
 - 28: Paid office rent for the month of November ID 17.000.
 - 30: Paid salary for the month of November ID 15.000.
- Required /journalize the transactions and post to a cash account only. (15 Marks).


Abdul Hussein T. shibli


A.P.D Elham .J. Hameed


A.L. Hanan S. Mahdi


A.L. Zainab



أسئلة الامتحان النهائي للعام
الدراسي ٢٠٢٢/٢٠٢٣
الكورس الثاني
(الدور الاول)



المادة: محاسبة مالية ٢
المرحلة: الأولى
التاريخ: ٢٠٢٣/٥/٣١
الزمن: ساعتان

ملاحظة: اجب عن أربعة اسئلة على ان يكون الأول من ضمنها ولكل سؤال ١٢,٥% درجة.
س١/ اليك بعض الأرصدة الظاهرة في سجلات الحسين التجارية بتاريخ ٢٠٢١/١٢/٣١.

اسم الحساب	المبلغ	اسم الحساب	المبلغ
المشتريات	١٦٠٠٠٠٠٠	م. البيع	٣٥٠٠٠٠٠
المبيعات	??	بضاعة اول المدة	??
مردودات ومسموحات المشتريات	??	بضاعة اخر المدة	??
مردودات ومسموحات المبيعات	٤٠٠٠٠٠٠	مجمل الربح او مجمل الخسارة	??
م. نقل المشتريات	١٠٠٠٠٠٠	كلفة البضاعة المباعة	??
التامين على المشتريات	٢٥٠٠٠٠٠	فوائد دائنة	٢٥٠٠٠٠٠
عمولة الشراء	١٥٠٠٠٠٠	خسائر بيع الأصول الثابتة	٣٠٠٠٠٠٠

هذا وتوفرت اليك البيانات التالية.

١- صافي المشتريات تساوي ٤/٣ من اجمالي المشتريات.

٢- كلفة البضاعة المباعة ٣/٢ من البضاعة المعدة للبيع.

٣- مجمل الربح يساوي ٢٥% من كلفة البضاعة المباعة، علما ان بضاعة اخر المدة لسنة ٢٠٢٠ هي ١٥٠٠٠٠٠ دينار

المطلوب : أ - ما هو الهدف من اعداد حساب المتاجرة . ب- إيجاد البيانات المجهولة

ج- اعداد كشف المتاجرة عن السنة المنتهية في ٢٠٢١/١٢/٣١.

س٢/ بصفتك مدققا للحسابات فقد ظهر اثناء تدقيقك حسابات احدى الشركات الأخطاء التالية

المطلوب تصحيح الفقرات التالية وعلى فرض صحة شرح القيد

١- من مذكورين

١٠٠٠ ح/المدينون

١٠٠٠ ح/المشتريات

٢٠٠٠ الى ح/المبيعات

شراء بضاعة نقدا بمبلغ ١٠٠٠ دينار وبيع بضاعة بالأجل

-٢

٣٠٠٠٠ من ح/ اندثار ماكنة

٣٠٠٠٠ الى ح/ مخصص اندثار ماكنة متراكم

تسجيل قيد الاندثار بمبلغ ٣٠٠٠ دينار وفق الطريقة الغير مباشرة

-٣

٢٥٠٠ من ح/ الموجودات الثابتة

٢٥٠٠ الى ح/ الصندوق

عن تسديد مصاريف الصيانة للموجودات الثابتة نقدا بمبلغ ٢٥٠٠

-٤

١٢٠٠٠٠٠٠ من ح/ أوراق قبض جديدة

الى مذكورين

١٠٠٠٠٠٠٠ ح/ أوراق قبض قديمة

٢٠٠٠٠٠٠ ح/ فوائد تأخيريه

قررت الشركة تجديد قيمة الكميالة البالغة ١٠٠٠٠٠٠٠٠ دينار وذلك بتحرير ورقة جديدة علما ان قيمة الفوائد التأخيرية مبلغ ٢٠٠٠٠٠٠٠٠ دينار .

-٥

٨٠٠٠٠٠٠٠ من ح/ المكانن الجديدة

الى مذكورين

٢٠٠٠٠٠٠٠ ح/ المصرف

٦٠٠٠٠٠٠٠ ح المكانن القديمة

استبدلت احدى المكانن القديمة بأخرى متطورة قيمتها السوقية ٨٠٠٠٠٠٠٠٠ دينار كما دفعت مبلغ ٢٠٠٠٠٠٠٠٠ دينار بشيك ، علما ان خصائر الاستبدال ١٠٠٠٠٠٠٠٠ دينار.

٣/ اليك بعض العمليات الخاصة بالموجودات الثابتة من دفاتر شركة الفيحاء عن خلال سنة ٢٠١٦

١- استبدلت الشركة ماكنة تم تقديرها بسعر ٦٤٠٠ دينار بأخرى قيمتها السوقية ٧٠٠٠ دينار من شركة النهار وقيمة الفرق نقدا، علما بان تكلفة الآلة كانت ١٢٠٠٠ دينار ومخصص اندثارها المتراكم يساوي ١٠٠٠٠ دينار

٢- تم بيع ارض تمثل ٢٠% من الموجودات البالغة ١٢٠٠٠٠٠ دينار كانت قد اشترت في ١-١-٢٠١٥ بـ ٢٦٠٠٠٠ دينار نقدا وذلك في ١-٧-٢٠١٦ علما بان الموجودات الثابتة تندثر ١٠% قسط ثابت

وفي ١-٤-٢٠١٤ كان رصيد الأثاث مبلغ ١٠٠٠٠٠٠٠٠ دينار تم بيع نصفه بمبلغ ٣٥٠٠٠٠٠٠٠ دينار نقدا سبق وان تم شراء بتاريخ ١/٧/٢٠١٤ علما انه يندثر بنسبة ١٠% قسط ثابت .

٣- تم شراء ماكنة بمبلغ (٣٠٠٠) دينار، وتم دفع مصاريف النقل والنصب بمبلغ (٢٠٠) دينار في ١-١-٢٠١٣

وفي ٢٠١٦/٤/١ تم بيع الماكنة بمبلغ (٢٠٠٠) بشيك علما بان العمر المقدر للماكنة يبلغ ١٠ سنوات ، وقيمة انقاضها (٨٠٠) دينار

٤- ظهر رصيد ح/ المكانن بتاريخ ٢٠١٦/١/١ ٨٤٠٠٠٠٠٠ دينار وفي ٤/١ من نفس السنة قررت الشركة استبدال الماكنة القديمة بأخرى اكثر تطور قيمتها السوقية ١٠٠٠٠٠٠٠ دينار علما ان البائع قام بتقدير القديمة بمبلغ ٦٨٠٠٠٠٠٠ دينار ودفع الفرق نقدا ، وكانت المعلومات الخاصة بالماكنة القديمة هي

- تم شرائها بتاريخ ٢٠١٤/٩/١ وتندثر بطريقة القسط الثابت وبنسبة ١٠% .

٥- ٢٠١٤/١/٢ اشترت إحدى الشركات التجارية آلة جديدة قيمتها ٦٠٠٠٠٠٠٠ دينار نقداً ، وفي ١/٤ تم دفع مصاريف نقل الآلة التي بلغت ٢٠٠٠٠٠٠ دينار نقداً ورسوم كمركية على الآلة الجديدة ٤٠٠٠٠٠٠٠ دينار ومصاريف تركيب الآلة ٤٠٠٠٠٠٠٠ دينار . وفي ١/٢٥ دفعت مصاريف صيانة عادية للآلة الجديدة مبلغ ٢٥٠٠٠٠٠٠ دينار . وبتاريخ ٢٠١٦/١/٥ تم تبديل مآطور للآلة بقيمة ٣٠٠٠٠٠٠٠ دينار مما زاد من العمر الإنتاجي ب ٣ سنوات ، وبتاريخ ٢٠١٦/٧/١ تم بيع نصف الآلات بمبلغ ٣٠٠٠٠٠٠٠ دينار علما انها تندثر بطريقة القسط المتناقص وبنسبة ١٠% .

المطلوب: اثبات القيود الخاصة للعمليات أعلاه وقيود الاتدثار في ٢٠١٦/١٢/٣١ علما ان الشركة تتبع الطريقة غير المباشرة بأثبات الاتدثار.

السؤال الرابع :- اليك بعض العمليات الخاصة بالتسويات الجردية للفترة المنتهية في ٣١-١٢-

١- . رصيد مصاريف التأمين في ٢٠٢١/١٢/٣١ كان ١٨٠٠٠٠٠٠ دينار ، وان قسط التأمين الشهري ١٠٠٠٠٠٠ يبدأ في ٢٠٢١/٥/١ .

٢- ظهر رصيد حساب المدينين في سجلات الشركة بتاريخ ١٢/٣١ مبلغ ٨٠٠٠٠٠٠٠٠ دينار وعند الجرد تبين ان هناك ديون معدومة بمبلغ ٦٠٠٠٠٠٠٠ دينار كما قررت الشركة تكوين مخصص الديون المشكوك بها بنسبة ٥% من رصيد المدينين نهاية الفترة .

٣- رصيد حساب الايجار هو ٤٢٠٠٠٠٠٠٠٠ دينار بتاريخ ٢٠٢١/١٢/٣١ مدفوع عن اربع سنوات اعتبارا من ٢٠٢١/٧/١ .

٤- هناك رواتب مستحقة بمبلغ ١٠٠٠٠٠٠٠٠٠ علما ان رصيد حساب الرواتب الظاهر بالميزان نهاية السنة هو ١٤٠٠٠٠٠٠٠٠٠ دينار.

٥ - ظهر رصيد حساب مصاريف الإعلان مبلغ ١٩٠٠٠٠٠٠٠٠٠ دينار وان قسط الإعلان الشهري هو ١٠٠٠٠٠٠٠٠٠٠٠ دينار يبدأ من ٢٠٢١/٩/١ .

المطلوب :- اثبات قيود التسوية اللازمة وبيان اثرها على الحسابات المختصة والميزانية في ٢٠٢١/١٢/٣١ .


س ٥ / استخرجت الأرصدة التالية من دفاتر شركة الجنوب التجارية بتاريخ ٢٠١٩/١/١ .
صندوق ٢٦٠٠٠٠٠ د. ، مدينون ١٠٠٠٠٠٠ د. ، بضاعة ١/١ ٤٥٠٠٠٠٠ د. ، خصم مسموح به ٥٠٠٠٠٠٠ د. ،
أثاث ٩٠٠٠٠٠٠ د. ، أ.د ٦٥٠٠٠٠٠ د. ، مبيعات ٣٨٠٠٠٠٠ د. ، مشتريات ٢٢٠٠٠٠٠ د. ، مردودات
المشتريات ٤٠٠٠٠٠٠ د. ، مردودات ومسموحات المبيعات ٦٠٠٠٠٠٠ د. ، م. نقل المشتريات ٢٠٠٠٠٠٠ د. ، رواتب
٥٠٠٠٠٠٠ د. ، مصاريف إدارية ٤٠٠٠٠٠٠ د. ، م. بيع وتوزيع ٢٥٠٠٠٠٠ د. ، م. كهرباء ١٠٠٠٠٠٠ د. ، م. تأمين
١٠٠٠٠٠٠ د. ، أيجار ٥٠٠٠٠٠٠ د. ، داننون ٦٠٠٠٠٠٠ د. ، مصرف ١٤٠٠٠٠٠ د. ، مباني ٢٠٠٠٠٠٠ د. ، أرضي
١٦٠٠٠٠٠ د. ، مكائن ٨٠٠٠٠٠٠ د. ، قروض ٦٠٠٠٠٠٠ د. ، مسحوبات ٦٠٠٠٠٠٠ د. ، مخصص اندثار الأثاث
١٣٥٠٠٠٠ د. ، مخصص اندثار المباني ٥٠٠٠٠٠٠ د. ، مخصص اندثار المكائن ٤٥٠٠٠٠٠ د. ، راس المال؟؟


وقد ظهرت المعلومات التالية خلال السنة المالية.

- ١- هناك ديون معدومة قدرت ٢٠٠٠٠٠٠ دينار ، كما قررت الشركة تكوين مخصص ديون مشكوك فيها بنسبة ٤ %
من رصيد المدين نهاية الفترة.
 - ٢- بضاعة اخر المدة بالكلفة ٤٠٠٠٠٠٠٠ دينار وبسعر السوق ١٨٠٠٠٠٠٠ دينار.
 - ٣- تم شراء بضاعة بالاجل بمبلغ ٥٠٠٠٠٠٠٠ دينار ولم تسجل بالدفاتر.
 - ٤- تم استلام القرض بتاريخ ٢٠١٩/٩/١ بمعدل فائدة ٦% سنويا على ان يتم سداده بعد ثلاث سنوات.
- المطلوب : أ- اعداد ميزان المراجعة البسيط ب- اجراء التسويات اللازمة ج- اعداد ميزان المراجعة المعدل.


مع التمنيات بالنجاح

مدرسي المادة



أ.م.د. سهيل عبد الله التميمي


أ.م.د. عدي صفاء الدين البطاط


أ.م.د. الهام جعفر الشاوي


عميد الكلية

أ.د. عبد الحسين توفيق شبلي


رئيس القسم

أ.م.د. الهام جعفر الشاوي

الأسئلة الأمتحانية

لقسم المحاسبة

للعام الدراسي

2023/2022

الكورس الثاني الصف الثاني

المادة: تطبيقات الحاسوب
المرحلة: الثانية
الوقت: 2 ساعة
التاريخ: 4 / 6 / 2023



أسئلة الامتحان
الدور - الاول
الكورس الثاني
للعام الدراسي
2023/2022



سعة البصرة
الإدارة والاقتصاد
الإدارة الأعمال
اسات الصباحية
والمسائية

الاجابة عن خمسة اسئلة فقط. ريسمع باستخدام نظام الجاهز ادركه صالو

ب ادناه درجات الامتحان الحقيقية والمتوقعة لمجموعة من الطلبة.

BB	BA	AZ	AY	ت	54
المعدل	الدرجة المتوقعة	الدرجة الحقيقية			
22.5	12	33	1		55
33.5	25	42	2		56
27	39	15	3		57

ب: 1. حساب الدرجة الاضافية باستخدام الدالة حيث عندما تكون درجة الامتحان الحقيقية اعلى من درجة الامتحان المتوقعة يتم اعطاء الطالب بنسبة D10 ، غير ذلك يتم تنزيل درجة المعدل. 2. ما هو متوسط الدرجات المتوقعة الاقل من (30) 3. احسب عدد التي تحتوي على درجة اقل من 25 في عمود المعدل.

(10 درجات)

في ادناه كشف بمبيعات احدى المحلات في محافظة البصرة.

AM	AL	AK	AI	AI	
المبيعات	السعر	الكمية المباعة	الصف	اسم المحل	
	4	200	قميص	الاخوين	22
		150	سترة	الوطني	23
		300	بنطلون	السامر	24
		250	قميص	الوطني	25
		200	سترة	السامر	26
					27

طوب: 1. حساب المبيعات باستخدام الصيغة. 2. احسب معدل الكمية المباعة الغير شاملة للسترة والتي تم بيعها بواسطة المحل (الوطني). 3. استخراج مجموع اكبر ثلاثة مبالغ في المبيعات.

(10 درجات)

3/ وضع بالتفصيل الاتي:
1. الدالة MOD 2. المفتاح Alt+Shift+F10 3. الدالة RIGHT 4. المفتاح Shift+F11 5. الدالة PV
6. المفتاح Ctrl+F6 7. Alt+F8 8. المفتاح F7 9. المفتاح F4 10. المفتاح Ctrl+Alt+F9

(10 درجات)

بالفصل (بدون اختصار) مع ذكر الامثلة عن كل مما يلي:
 طلية النسبية والخلية المطلقة.
 معاملات المستخدمة في كتابة الصيغ.

(10 درجات)

ادناه درجات لمجموعة من الطلبة

V	U	T	S	R	Q	P	O	N	M
المعدل	النتيجة	التقدير	الحاسوب	التقدير	الأحصاء	التقدير	الإدارة	اسم الطالب	ت
			72		60		36	A	1
			55		30		66	B	2
			90		77		80	C	3
			68		89		75	D	4
			83		50		82	E	5

1. استخراج تقديرات مادة الإدارة باستخدام الدالة. 2. استخراج نتيجة الطلبة اعلاه على اساس جميع المواد.
 3. ما هو معدل الطالب C باستخدام الدالة. 4. ما هي عدد الخلايا التي تحتوي على تقدير (جيد) ومعدل اعلى من (60). 5. ما هو متوسط الدرجات بين 50 و 75 في مادة الحاسوب. (10 درجات)

البيانات التالية كشف لأحد المحلات والمطلوب:

I	H	G	F	E	D	C	B
الخصم	الإرباح	مجموع الكلف	كلفة النقل	مبيعات السلع/الدينار	عدد السلع/الوحدات	سعر السلعة	نوع السلعة
					1000	100	مسطرة
					2500	150	دفتر
					3000	75	أفلام
					1500	300	محمدة

- احسب مبيعات السلع.
 كلفة النقل: اذا كان عدد السلع اكثر من (40) سلعة و اقل من (70) قطعة يتم احتساب 5% من مبيعات السلعة، واذا كان سعر السلعة اقل من كلفة النقل يتم احتساب 3% من الارباح.
 (الارباح): اذا كانت كلفة النقل اقل من (100)، او مجموع الكلف اكبر من او يساوي (500) يتم احتساب ارباح 8% من مبيعات السلع غير ذلك يتم احتساب ارباح 2% من سعر السلعة.
 (الخصم): اذا كان نوع السلعة دفتر يتم خصم 10% من كلفة النقل، واذا كان مسطرة يتم خصم 6% من الارباح، واذا كان محمدة يتم خصم 4% من مجموع الكلف، غير ذلك يتم خصم 1% من مبيعات السلع. (10 درجات)

أ. عبد المصطفى

مع تمنياتي لكم بالنجاح

رئيس القسم

أ.ب. هادي عبد الوهاب

مدرس المادة

م. عمار نزار مصطفى

المادة: المحاسبة الحكومية ٢
الزمن: ساعتان
التاريخ: / / ٢٠٢٣



أسئلة الامتحان النهائي
الكورس الثاني نموذج (A)
للعام
٢٠٢٢ - ٢٠٢٣



جامعة البصرة
الادارة والاقتصاد
قسم المحاسبة

ملاحظة:- الاجابة على ثلاثة اسئلة على ان يكون السؤال الاول من ضمنها.

١/ فيما يلي البيانات الخاصة باحدى المقاولات

- في ٢٠١٧/٣/١ وقعت جامعة البصرة عقدا مع شركة الامين للمقاولات لبناء مختبرات حيث بلغت مبلغ عطاء المقاوله (٢٠٠٠٠٠٠٠٠٠٠٠ دينار) وتم استلام تأمينات اولية ورسم طابع بصك مصدق وتم ايداعه بالمصرف.
- في ٢٠١٧/٤/٥ تم صرف سلفة برهن المكانن والمعدات في موقع العمل وبلغت (٨٠٠٠٠٠٠٠٠٠٠ دينار) على ان تسترد بالتساوي في الذرعة الثالثة والرابعة.
- بتاريخ ٢٠١٧/٦/٥ قدمت الشركة الذرعة الاولى للمقاوله والتي بلغت (٣٠٠٠٠٠٠٠٠٠٠ دينار) ومواد مطروحة (٨٠٠٠٠٠٠٠٠٠٠٠ دينار)
- بتاريخ ٢٠١٧/٧/٦ قدمت الشركة الذرعة الثانية للمقاوله والتي بلغت (٧٥٠٠٠٠٠٠٠٠٠٠ دينار) ومواد مطروحة (٦٠٠٠٠٠٠٠٠٠٠٠٠ دينار)
- بتاريخ ٢٠١٧/٨/٩ قدمت الشركة الذرعة الثالثة للمقاوله والتي بلغت (٩٥٠٠٠٠٠٠٠٠٠٠٠ دينار) ومواد مطروحة (٩٠٠٠٠٠٠٠٠٠٠٠٠ دينار)
- بتاريخ ٢٠١٧/٩/١٠ قدمت الشركة الذرعة الرابعة للمقاوله والتي بلغت (٢٠٠٠٠٠٠٠٠٠٠٠٠ دينار) ومواد مطروحة (٥٠٠٠٠٠٠٠٠٠٠٠٠ دينار)
- في ٢٠١٧/ ١٠/١٠ تم استلام المقاوله استلاما اوليا وتم اطلاق التأمينات الاولية ونصف تأمينات الاستقطاعات النقدية.

المطلوب/ تسجيل جميع القيود اليومية اللازمة

(٢٠ درجة)

٢ / ١- بتاريخ ٢٠١٨/٢/٢٥ وفي احدى دوائر محافظة بغداد صدر امرين اداريين الاول يتعلق بأيفاد الموظف ثامر ن الى قبرص والثاني يتعلق بأيفاد الموظف جابر علي الى محافظة البصرة ،سافر ثامر بتاريخ ٢٠١٨/٣/٣ وعاد يوم ٢٠١٨/٣/٦ ، سافر الموظف جابر يوم ٢٠١٨/٣/٦ وعاد يوم ٢٠١٨/٣/١١ بعد الساعة السادسة مساءً.

في ٢٠١٨/٣/١ منح السيد ثامر سلفة ٦٠٠٠٠٠٠٠٠٠٠٠ دينار والسيد جابر ١٠٠٠٠٠٠٠٠٠٠٠٠ دينار بموجب الشيكين المرقمين ١٢١٢ و ١٢١٢٩٩ ويمستند صرف ١١٠/٧٢ .

تم السيد ثامر مستندات السفر في يوم ٢٠١٨/٦/٢٠ (١٥٠ دولار اجرة تذكرة الطائرة عند الذهاب وعند الرجوع كانت ٢ دولار) ، (وصل اقامة في الفندق لليلة الواحدة ٢٥٠ دولار)،(تم نقله من مكان العمل الى المطار بواسطة سيارة مية وكذلك عند العوده) (يتم استلام او دفع الفرق نقداً)

تم السيد جابر في يوم ٢٠١٨/٤/٣٠ المعلومات الاتية (اجرة النقل من مكان عمله الى الكراج ٥٠٠٠ دينار وعند وع ١٠٠٠٠ دينار ، اجرة النقل من محافظة بغداد الى البصرة ٥٠٠٠٠ دينار اما اجمالي النقل داخل البصرة ١٥٠٠ دينار وعند العودة الى محافظة بغداد كانت اجرة النقل ٧٠٠٠٠ دينار ، وصل اقامة في الفندق خلال مدة ٢٠٠٠٠٠٠٠٠٠٠٠ دينار) (يتم استلام او دفع الفرق نقداً)

ب// احتساب استحقاق الموفد حسب قانون الايفاد والسفر واجراء القيود اليومية اللازمة علما ان كلا الموظفين من الصنف الثاني صرف الدولار بتاريخ ٢٠١٨/٢/٢٥ (١٣٥٠ دينار) ، ٢٠١٨/٣/١٤ (١٤٠٠ دينار) وبتاريخ ٢٠١٨/٦/٢٠ (١٤٥٠ دينار) (درجة)

دليل GFS

رقم الدليل	اسم الحساب	رقم الدليل	اسم الحساب
٣٢١٢٢٣١	بنك الإيرادات المغلق	٣٢١٨١٥٢	سلف المقاولين/ سلف برهن المكانن والمعدات
٣٢١٢٢١١	بنك النفقات الاعتيادي	٣٢١٨١٢٢	سلف الافراد العاملين /سلف الايفاد خارج العراق
٣٢١٢٢١٢	بنك النفقات الاستثمارية	٣٢١٨١٢١	سلف الافراد العاملين /سلف السفر داخل العراق
٣٢١٢٢٤١	بنك الامانات	٣٢١٨١٤١	سلف الاعتمادات / سلف الاعتمادات المستندية
٣٢١٢١١١	نقد في الصندوق	٣١١١٢٢١	الاثاث
١٤٢٢١١	إيرادات رسوم الطوابع	٣٣١٨٢٣١	امانات الصكوك غير المسحوبه
٤٣٥٣	تأمينات الاستقطاعات النقدية	٣٣١٨٢٩١	امانات معالجة الزيادة في الصندوق
٤٣٥٢	التأمينات النظامية	٣٣١٨١١١	امانات الضرائب
٤٣٥١	التأمينات الأولية	٣٣١٨١٩١	امانات المستشفيات
٤٣٥١	التأمينات الأولية للمزايدات	٣٣١٨١٢١	امانات الكمارك
٣١١١١٢١	مباني وانشاءات	٢٢٢١٢١	نفقات الانتقال / مخصصات ليلية
١٧٢١١	إيرادات الخدمات الصحية	٢٢٢١٢٢	نفقات الانتقال / وسائط نقل
١١١١٢٢	إيرادات ضريبة الدخل	٢٢٢١٢٣	نفقات الانتقال / نفقات السكن
١٨٢١٠١٤	إيرادات متنوعة		
١٦١١١	إيرادات بيع او تاجير ممتلكات الدولة		



جمهورية العراق
وزارة التعليم العالي والبحث العلمي
جامعة البصرة
كلية الإدارة والاقتصاد / قسم للحاسبة



أسئلة الامتحان النهائي للدراسات الصباحية والمسائية-الكورس الثاني للعام الدراسي 2022-2023 - الدور ()
المادة : بحوث العمليات المرحلة : الثانية التاريخ : / / 2023 الزمن : 2 ساعة

لاحظتة : الاجابة عن اربعة اسئلة فقط ، والدرجة توزع بالتساوي لكل سؤال 12.5 .
بالشكر والاحترام
مدير

Q1:(A) a company produces two products from three materials , A,B,C . the following table provides the basic data of problem :

Product	Tons of raw material per unite			Unite profit Per unite
	A	B	C	
1	5	6	5	100\$
2	7	4	10	300\$
Maximum daily availability	30	10	20	

Formulate the problem as an linear programming model?

(B) Find the dual model from the following primal model

$$\text{Max } Z = 4 X_1 + 5 X_2$$

S.T

$$3X_1 + 2X_2 \leq 20$$

$$4X_1 - 3X_2 = 10$$

$$X_1 , X_2 \geq 0$$

Q2: Solve the following L.P Problem by Simplex method.

$$\text{Max } Z = 4X_1 - 2 X_2$$

S.T

$$4X_1 + 2X_2 \leq 8$$

$$2X_1 \leq 12$$

$$X_1 , X_2 \geq 0$$

Q3/ Consider the following LP

$$\text{Max } Z = 2X_1 + 4X_2$$

S.t

$$X_1 + 2X_2 \leq 5$$

$$X_1 + X_2 \leq 4$$

$$X_1, X_2 \geq 0$$

Find the optimal solution by using the graphical solution?.

Solve the following transportation problem by Vogel method:

B	B1	B2	B3	B4	Supply
A					
A1	2	3	7	11	150
A2	0	12	5	6	125
A3	14	1	3	9	75
A4	10	2	5	8	50
Demand	100	20	80	200	

(A) Formulate the following linear programming problem by canonical form

$$\text{Max } Z = 3X_1 - 4X_2 - 6X_3$$

S.T

$$X_1 + 2X_2 - 5X_3 = 25$$

$$3X_1 + 6X_2 + 7X_3 \leq 26$$

$$7X_1 + 10X_2 + X_3 = 30$$

$$X_1, X_2, X_3 \geq 0$$

(B) Find the optimal solution for the following game matrix

B	B1	B2	B3	B4	B5	B6	B7
A							
A1	3	6	1	-2	9	7	2
A2	10	4	-3	5	1	2	11
A3	1	7	9	3	2	5	4
A4	3	4	2	1	5	6	2
A5	8	6	8	5	7	9	10

رئيس القسم

أ.م.د. الهام جعفر الشاوي

مدرس المادة

أ.م.د. بهاء عبدالرزاق

مدرس المادة

أ.م.د. وليد ميه روين

مدرس المادة

علي عبدالزهرة حسن

س ٥ / اجب عن احد الفرعين التاليين
أ- احسب مقدار الاستقطاع الضريبي لشخص دخله ٩٥٠ دينار اذا كان التصاعد بالشرائح وفق الجدول التالي

ت	تنظيم الشرائح	مقدار الشريحة	سعر الضريبة
١	الشريحة الأولى	٢٥٠ دينار	٢%
٢	الشريحة الثانية	٥٠٠ دينار	٤%
٣	الشريحة الثالثة	٧٥٠ دينار	٦%

ب- عدد قواعد النفقة العامة مع شرح واحدة منها

مع التمنيات بالنجاح

أ.د. الهام الشاوي
رئيس القسم

أ.م.د. ربيع قاسم ثجيل
مدرس المادة

أ.م.د. زيدان المالكي
مدرس المادة

م.علي طالب شهاب
مدرس المادة



Q 1// True or False

- 1- Accounting recoverable considered income.
- 2- Account receivable is the funds that customers owe your company for product or service that have been invoiced.
- 3- Account recoverable a liabilities account.
- 4- Accounts receivable result from the sale of goods or service for cash.
- 5- Ending inventory = beginning inventory + purchase + cost of goods sold.
- 6- The value of ending inventory is shown in the balance sheet as fixed assets.
- 7- Under FIFO method will not show lowest value of cost of goods sold.
- 8- Under perpetual inventory system the sales returned record in debit side to sales return.
- 9- Depreciation is record on inventory, building, and equipment but it is not record on land.
- 10- Plant and equipment with an original cost \$6000 and cost of transportation worth \$100, the cost of equipment will be \$6100.
- 11- The estimated value of an Assets at the end of its useful life is called the book value.
- 12- Industrial company purchase fixed assets to be used in production.
- 13- An equipment that was originally purchased for \$25,000, had an accumulated depreciation of a \$18,000 and was sold for \$8,000 would recognize a gain of \$1,000.
- 14- Depreciation expense is based upon cost, useful life, and salvage value.
- 15- If the plant Assets is sold for more its value, a loss is recorded.

15 ma

Q 2// Choice the correct answer:

- 1- Under the credit write-off method of accounting for uncollectable accounts, bad debt expense is debited:
 - a- when a credit sale is past due.
 - b- At the end of each accounting period.
 - c- when a pre-determined amount of credit sale have been made.
 - d- when an account is determined to be uncollectible.
- 2- An aging of a company's account receivable indicate that \$6,000 are estimated to be uncollectible if allowance for doubtful accounts has \$2,000 debit balance the adjustment to record bad debts for the period will be:
 - a- Debit to bad debts expense for \$8,000. B- debit the allowance for doubtful accounts for \$2,000.
 - c- debit to bad debt expense for \$4,000. d- credit to allowance for doubtful accounts for \$4,000.
- 3- To record estimated uncollectable accounting using the allowance method the adjusting entry will be:
 - a- debit to accounts receivable and credit to allowance doubtful account.
 - b- debit to bad debit expense and credit to account receivable.
 - c- debit to allowance doubtful account and credit to accounts receivable.
 - d- debit to loss on credit sales and debit to accounts receivable.
- 4- Using the percentage of receivable method for recording bad debt expense estimated uncollectable accounts are \$45,000 if the balance of allowance for doubtful accounts is \$6,000 credit before adjustment what is the amount of bad debt expense expense for that period:
 - a- \$4,5000. b- \$39,000 c- \$51,000 d- \$60,000.
- 5- In 2022 Wilkinson Company had net credit sales of \$2,250,000, on 1, Jan, 2022 allowance for doubtful accounts had a credit balance of \$54,000 during 2022 , \$9,000 of uncollectable accounts receivable were

...off, past experience indicate that the allowance should be 10% of the balance at December 31, \$600,000, what is the required adjustment to the allowance for doubtful accounts at December 2020:

- b- \$25,000.
- C-\$96,000.
- d- \$90,000

... amount of purchase if cost of goods sold \$80,780, beginning inventory \$5,800, ending inventory \$0,500.
 ... company used periodic system, weighted average method for evaluate its inventory the detail of its purchase and sales of goods during the week are as follow:
 2022
 beginning inventory 50 units value \$2,200.
 purchase 100 units @47
 sold 50 units
 purchase 200@48.

- b- \$74,900.
- C-\$ 80,900.
- d-\$90,800.

value of inventory at the end of the week and the unit weighted average cost is:
 \$4200-\$47.33. b-\$14,142-\$47.14. c-\$14,000-\$46.66. d- anther answer.

consider the following for Al Noor Company for the year 2021:
 of goods available for sale \$100,000
 sales 80,000
 ending inventory 20,000
 gross profit margin on sale 25%

ending inventory of goods for the year 2020 as:
 \$10,000. b- \$60,000 c-\$40,000 d-\$50,000
 order of the three method of evaluate cost of goods sold and inventory which of the method will give highest value of inventory:
 a-Weighted average. C-LIFO. d-No one of above.

the company purchased for \$10,000 and the total accumulated depreciation on the equipment is \$1,000. if the company exchange the old equipment for new equipment, paying 4,000 cash, the fair value of the new equipment is \$5,000, the loss or profit on exchange equal to:
 a-profit \$1,000. b-zero. C-Loss \$2,000. d- No one of above.

plant assets with a cost of \$480,000 and accumulated depreciation \$456,000 is sold for \$56,000, amount of gain or loss on disposal of the plant assets:
 a- gain 30,000. b-zero. C- Loss 32,000. d- gain 32,000.

purchase of fixed assets is:
 capital receipt. b--capital expenditure c-Revenue. d-no one of above.
 the company purchase furniture worth \$500 and pays \$50 for transportation the cost of the furniture that appear un the balance sheet will be
 a-\$50. B- \$600 c-\$500. D- \$600

the company purchase a truck at \$20,000 and estimated that useful life of 5 years and salvage value for \$0, at the beginning of the third year management decide that the truck will use for 5 more years, the revised estimate of useful life is therefore total of 7 years and revised salvage value will be \$0. So the annual depreciation expense for the remaining year will be if the company use straight-line method:
 a-\$1,400. B\$ 2,000. C- \$3,000. 4-anther answer.

the book value at the end of an asset's useful life will be:
 a- the same amount under all depreciation methods. b- straight -line method and double balance method greater than the SYD and units production.
 c- straight -line method and double balance method less than the SYD and units production.
 d- anther answer.

15 marks

Q3// Answer two of the following (each question 10 marks)

Al Safa company was in business 7 years ago and use the allowance method to record bad debt. The records show on 2021 that balance of sales was \$20,000, half was credit, at the end of this year show that 25% balance of Accounts receivable .and balance of Allowance of doubtful account \$150.

The credit manager estimated that 10% will be uncollectible at the end of the year.

On 2/5/2022 the financial manager authorize to write-off a specific customer worth \$ 100 .

On 30/9/2022 the customer pays the amount that written-off on 2/5/2022.

Required: prepare the journal entries

Show the effect on balance sheet.

Q 4// Wynn company uses the periodic inventory system to account for inventories . information related to Wynn Company's at October 31 is given below:

October 1, beginning inventory	400 units @10.00	\$4,000
8, Purchase	800 units @10.40	8,320
16 Purchase	600 units @10.80	6,480
24 Purchase	200 units @11.60	2,320
Total	2,000 units	\$21,320

Required:

1- Show the computation to value the ending inventory using the FIFO method if 600 units remain on hand at October 31.

2- Show the computation to value the ending inventory using the weighted-average method if 600 units remain on hand at October 31.

3- Show the computation to value the ending inventory using the LIFO method if 600 units remain on hand at October 31.

Q 5//: Prabhn industries ltd. Recently exchange a piece of manufacturing equipment, the market value of the new equipment worth \$19,000, and pays \$2,000, the cost of the old equipment worth \$25,000 and accumulated depreciation worth \$10,000, according to the information above:

Required:

1- prepare the journal entries to record the exchange, assuming the exchange is considered to have commercial substance.

2- Repeat part (1) assuming the exchange dose not have commercial substance.

3- Repeat part (2) assuming the accumulated depreciation is \$5,000 instead of \$10,000.

Good luck


P.D. Abdulhuseen T. Shable

Dean



P.D. Fatima J. Mouahmmad

Lecturer


A.P.D. Elaham J. Hame

Head of Department


A.P. Fayhaa.A. Mahmmo



ملاحظة // الاجابة على ثلاثة اسئلة على ان يكون السؤال الاول بضمنها (اجباري) :

- 1/ العمليات المالية التالية تخص الموجودات الثابتة لشركة التعاون الصناعية المساهمة خلال السنة المالية 2020/2021:
- 1- في 2020/1/1 قامت الشركة بشراء قطعة ارض بمساحة تبلغ 250 متر مربع وبقيمة 140000 دينار للمتر المربع الواحد من اجل استخدامها كمخازن مستقبلاً , بالإضافة لدفع الشركة مبلغ 250000 دينار رسوم تسجيل عقاري و 500000 دينار عن اتعاب محامين و 1000000 دينار لإزالة انقاض والعمليه كانت بصك.
- 2- في 2022/4/1 اشترت الشركة (سيارة و اجهزة و معدات) من شركة منافسة بقيمة 10 مليون دينار مقابل كمبيالة تستحق الدفع بعد سنتين , علماً ان القيمة السوقية المقدرة بذلك التاريخ كانت (4 مليون , 6 مليون , 5 مليون) على التوالي.
- 3- في 2020/6/1 قامت الشركة باستبدال رافعة شوكية مستخدمة قيمتها الموثقة بسجلات الشركة 14 مليون دينار ومستخدم لمدة 4 سنوات مقابل مولد كهربائي قيمته السوقية بتاريخ الاستبدال 10 مليون دينار بالإضافة الى دفع مبلغ 250000 دينار بصك , علماً ان الرافعة تندثر بطريقة القسط الثابت سنوياً بمبلغ 400000 دينار.
- 4- في 2020/6/5 صرفت الشركة مبلغ 10 مليون دينار نقداً من اجل تطوير وتحسين عمل المكانن الصناعية في الشركة .
- 5- في 2020/7/1 باعت الشركة ماكينة بمبلغ 20 مليون دينار نقداً علماً ان الماكينة مستخدمة لمدة 7 سنوات وتندثر سنوياً بقسط ثابت مقداره 500000 دينار وكلفة الماكينة بالسجلات المحاسبية للشركة 23 مليون دينار.
- 6- في 2020/8/10 دفعت الشركة مبلغ 9 مليون دينار بصك من اجل تنظيف وتزبييت الآلات والمكانن الصناعية للشركة من اجل ديمومة عملها.
- 7- في 2020/10/1 قام مالك الشركة بسحب اثاث من الشركة من الاثاث المشتري بتاريخ 3/1 لاستخدامه الشخصي علماً ان كلفة الاثاث المسحوب 5 مليون دينار , ويندثر بقسط ثابت سنوي قدرة 240000 دينار.

المطلوب / (1) اثبات المعالجات المحاسبية اللازمة في سجلات شركة التعاون الصناعية المساهمة ؟
(2) احتساب وتسجيل اندثار الموجودات الثابتة المملوكة للشركة بتاريخ 2020/12/31 , علماً ان الشركة طبق طريقة القسط الثابت والعمر الانتاجي المقدر لموجودات الشركة هو 10 سنوات ؟؟

- 2/ في 2014 / 7 / 1 اشترت شركة البصرة ماكينة بمبلغ 500000 دينار وقدر عمرها الإنتاجي 5 سنوات وانقاضها بثبات 50000 دينار. فاذا علمت ان الخبراء قد قدروا أيضاً ان عمرها يمكن ان يحدد من خلال :
- 1- عدد الوحدات المنتجة والتي قدرت 10000 وحدة (الوحدات المنتجة فعلياً : انتجت الماكينة في السنة الأولى 3000 وحدة، 2500 وحدة في السنة الثانية، 2000 وحدة في السنة الثالثة ، 1500 وحدة في السنة الرابعة، 1000 وحدة في السنة الخامسة).
- 2- عدد ساعات التشغيل والتي قدرت 20000 ساعة (اشتغلت الماكينة في السنة الأولى 6000 ساعة، 5000 ساعة في السنة الثانية، 4000 ساعة في السنة الثالثة، 3000 ساعة في السنة الرابعة، 2000 ساعة في السنة الخامسة).

المطلوب/ تسجيل قيود الاندثار لسنة 2014، 2018، 2019 وفق طرق الاندثار الاتية :

- 1- طريقة القسط الثابت ؟
2- طريقة عدد وحدات الإنتاج؟؟؟
4- طريقة عدد ساعات التشغيل؟؟؟

س3 / اجب على احد الفرعين :

- 1- فيما يلي حركة مخزون البضائع لشهر كانون الاول في شركة البصرة التجارية من السنة المالية 2022 :
- 1- رصيد اول الشهر 5000 وحدة بسعر 1000 دينار للوحدة.
 - 2- في 5 منه اشترت الشركة 7500 وحدة بالأجل و بسعر 1250 دينار للوحدة الواحدة.
 - 3- في 7 منه تم اعادة 150 وحدة تالفة من البضاعة الى المجهز.
 - 4- في 9 منه باعت الشركة 6000 وحدة .
 - 5- في 11 منه ارجعت الى الشركة 250 وحدة تالفة اثناء النقل بصفقة البيع.
 - 6- في 15 منه اشترت الشركة 4500 وحدة بسعر 1500 دينار للوحدة.
 - 7- في 22 منه باعت الشركة 9000 وحدة .
- فإذا علمت ان الشركة تطبق نظام الجرد المستمر وطريقة الوارد اخيراً صادر اولاً (LIFO) لمتابعة البضائع , وان سعر البيع المعتمد من قبل ادارة الشركة لشهر كانون الاول هو 2000 دينار .

المطلوب / احتساب و تحديد كمية و كلفة مخزون البضائع في نهاية شهر كانون الاول وتسجيل قيود حركة البضائع للشهر

ب / فيما يلي بطاقة استاذ المخازن لشركة الفارس التجارية عن السنة المالية 2022 :

علماً أن الشركة تطبق نظام الجرد المستمر وطريقة الوارد اولاً صادر اولاً FIFO

التفاصيل	الوارد			الصادر			الرصيد	
	كمية	سعر	قيمة	كمية	سعر	قيمة	سعر	كمية
رصيد 1/1	1250	500	?				?	?
مشتريات 2/1	?	600	1500000				?	?
مبيعات 3/1 3000 وحدة				?	?	?	?	?
مشتريات 4/1	4000	?	3000000				?	?
مبيعات 5/1 3500 وحدة				?	?	?	?	?
مشتريات 6/1	2000	800	?				?	?
الرصيد المخزني 6/30							?	?

المطلوب / استخراج القيم والكميات المجهولة في بطاقة استاذ المخازن لشركة الفارس التجارية ؟

س4 / في 2021/1/2 اشترت شركة الاوائل كامل اسهم شركة النور وذلك بهدف الاندماج , وكانت الميزانية العمومية لشركة النور في تاريخ الشراء كما يلي :

الاصول	الخصوم
500000	المصرف
700000	المدينون
840000	المخزون
2000000	المباني
1060000	المكانن
5100000	المجموع
	5100000
	المجموع

شروط ومعلومات الاندماج بين الشركتين هي :

- 1- تدفع شركة الاوائل 8000000 دينار نقداً .
- 2- القيمة السوقية لأصول وخصوم شركة النور بتاريخ الشراء :

المدينون 700000 , المخزون 2440000 , المباني 3000000 , المكنان 1460000 . الدائون

11000 . ارباح شركة النور للسنوات الخمس الاخيرة : 1200000 , 1100000 , 2200000 , 1400000 , 1600000 .

4- معدل الربح الاعتيادي للصناعة التي تعمل ضمنها شركة النور 15% , ومعدل الخصم المناسب هو 25% .

اللوب / احتساب قيمة شهرة المحل بطريقتي التقييم الشامل و الدخل فوق الاعتيادي واثبات القيود المحاسبية اللازمة ؟

مع الامنيات لكم بالنجاح والتوفيق



م.م ماهر اسماعيل بدران



م.د مهند محمد عبدالمطلب



م.م منذر جبار داغر



العميد / أ.د عبدالحسين توفيق شبلي



م.م القسم / أ.م.د الهام جعفر الشاوي



القسم ح

25

المادة: أساليب البحث العلمي
المرحلة: الثالثة
التاريخ: 2023 / 6 /
الوقت: ساعتين



القسم
الادارية
والمسانية

الامتحان النهائي الدور الأول الفصل الدراسي الثاني للعام الدراسي 2022-2023

نظرة: الإجابة عن خمسة أسئلة فقط (10 درجات لكل سؤال)

1: تصنف الفرضيات على أساس كيفية اشتقاقها إلى فرضيتين؟ فما هي هذه التصنيفات عددها مع الشرح؟

2: عرف المنهج الوصفي وما هي مزايا وعيوب المنهج الوصفي؟

3: عند الحديث عن البحوث العلمية ينبغي الإشارة إلى أن ليس كل بحث يمكن أن نطلق عليه بحث علمي لان البحوث العلمية يجب ان تكون لها شروط ومواصفات علمية معينة، لذا تصنف البحوث العلمية إلى عدة مستويات، ما هي مستويات البحث العلمي عددها مع التوضيح؟

4: إن الفرضية هي الرأي الذي يضعه الباحث لتفسير أسباب الظاهرة المشاهدة وأثارها على سبيل التخمين والظن، لا تعتبر الفرضية علمية إلا إذا توفر فيها شروط معينة، فما هي هذه الشروط عددها؟

5: ما هي خطوات البحث العلمي عددها مع التوضيح من خلال مخطط؟

6: ما هي أنواع التصاميم التجريبية عددها مع شرح واحدة منها؟

7: ما هو البحث الإجمالي؟ وما هي الافتراضات التي يقوم عليها البحث الإجمالي؟ وما هي الأمور التي يشجع لها عند البحث والمشاركين بالبحث؟

مع التمنيات لكم بالنجاح

عميد الكلية
أ.د. عبد الحسين توفيق شبيب

رئيس القسم
أ.م.د. وليد مية رودين

مدرس المادة
أ.م.د. سكنه جهيه فرج



- 1- الاجابة عن (اربعة اسئلة فقط) وتوزع الدرجات بالتساوي (لكل سؤال 12.5 درجة).
- 2- لكل سؤال مالي رقمي (مهم جداً كتابة معادلات الحل في الاجابة والتسلسل
- 3- تسلم ورقة الأسئلة مع دفتر الاجابة.

(يسمح باستخدام القلم الكحاف او الرصاص)

الأول:-

عملت شركة المهدي التجارية اسهما ممتازة تحمل ربحاً سنوياً مقداره 9%، وكانت القيمة الاسمية للممتاز \$100 وقد تكبدت الشركة مصاريف اصدار وتسويق وبيع بلغت قيمتها للسهم الواحد \$7 حسب تكلفة السهم الممتاز على الشركة.

شرح بالشكل فقط :-

2- المبادئ التي تقوم عليها الحوكمة المؤسسية. (كتابة عنوان الشكل مهم جداً)
ان تتمتع الأسهم الممتازة بالعديد من الخصائص الإضافية و التي تحدد في شهادة السهم الممتاز،
خصائص؟ وضحها تفصيلاً.

ثاني :-

وصت العديد من المؤسسات الدولية على وضع معايير محددة لتطبيق مفهوم الحوكمة المؤسسية
شديدة في الشركات المساهمة مثل منظمة التعاون الاقتصادي والتنمية OECD ومؤسسة التمويل
الدولية IFC، استعرض هذه المعايير بالشرح التفصيلي لكل من المؤسستين أعلاه.

المستثمرين بشراء سهم بسعر \$ 12.8، وبعد مرور سنة قام المستثمر ببيع السهم بسعر
أذا علمت أن المستثمر استلم \$ 0.75 أرباح موزعة خلال الفترة، احسب معدل العائد على

أحدى الشركات التجارية سندا بقيمة اسمية تبلغ \$ 1000 وبسعر فائدة 7% ولمدة 15 سنة،
الشركة على مبلغ \$ 771.8 من بيع السند، المطلوب احتساب/ 1- تكلفة السند على الشركة
العائد الداخلي 2- بين كم تبلغ تكلفة السند بعد الضريبة اذا كان معدل الضريبة 30%.

نموذج تسعير الموجودات الرأسمالية أحد أهم النماذج التي قامت بربط عائد السهم بمخاطره،
والإعتبار لمفهوم التنويع والمحفظة الإستثمارية في النموذج. كيف يمكن صياغة معادلة نموذج
بيانات أو الأصول الرأسمالية (CAPM)؟ موضحاً من خلالها ماذا يعني كل رمز من رموزها.

حصلت احدى الشركات المساهمة على قرض مصرفي قيمته 50 الف دولار ، وكانت مدة القرض 5 سنوات وسعر الفائدة السنوي على القرض 8% وتم الاتفاق بين الشركة والمصرف على ان يتم سداد القسط القرض بشكل ربع سنوي. المطلوب :- 1- احتساب تكلفة القرض على الشركة 2- حساب تكلفته بعد الضريبة اذا كانت معدل الضريبة 30% .
وضح بالتفصيل اهم خصائص الحوكمة المؤسسية .

أ- اعطيت اليك المعلومات التالية عن هيكل تمويل شركة العباس للادوية ، احسب المتوسط
تكلفة راس المال WACC علماً بأن نسبة الضريبة المفروضة على الشركة 25% .

المبلغ (الف دولار)	الوزن النسبي لكل مصدر	التكلفة
500	41.7%	13%
100	8.3%	13%
150	12.5%	11%
250	20.8%	9%
200	16.7%	10%
1200	100%	

ب- وضح بالتفصيل المفهوم الذي تقوم عليه نظرية الاشارة Signaling Theory .

الخامس:-

عدد الأسهم المصدرة لشركة الحسين التجارية مليون ونصف سهم، و قد كانت القيمة الاسمية \$1 والقيمة السوقية \$5 ، و قد تقرر التقسيم العكسي للأسهم بنسبة 3:1، ماهي اجابتك ؟

كان العائد على مؤشر السوق 14% وكان العائد على اذونات الخزينة 7% وكان معامل بيتا لهم احدى الشركات التجارية يساوي 1.5 احسب تكلفة السهم على الشركة .

ماهي اهم عيوب التمويل بالارباح المحتجزة ؟ وضح بالتفصيل .

أ. د. عبدالمسيح توفيق شبل
عميد الكلية

مع تمنياتنا لكم بالنجاح

أ.د. هادي عبد الوهاب عبدالامام
رئيس القسم


أ.م. د. ندى عبد القادر
مدرس المادة

شيد علي البدران
ن المادة

المادة : محاسبة مصادر
المرحلة : الثالثة
الوقت : ساعتان
التاريخ : 2023/6/3



أسئلة الامتحان النهائي
الكورس الثاني -
للعام الدراسي
2023/2022



جامعة البصرة
كلية الإدارة والاقتصاد
قسم المحاسبة
المسابقات الصباحية والمسائية

الاجابة على ثلاثة اسئلة فقط على ان يكون السؤال الاول من ضمنها .

- س1/ تقوم احدى الشركات النفطية بعمليات الحفر في منطقة عقد امتياز رقم (13) وكانت نفقات الحفر الخاصة بالبرئر كما يلي:
1. في 1/7 قامت الشركة بسحب المواد التالية من مخازن الشركة : انايب تغليف 4500 ، اسمنت 2200 (استعمل منها 2000 في تغليف البرئر) ، حوامض ومواد مذيية 3000 (استعمل منها 1900).
 2. في 2/30 بلغت مصاريف الوقود والطاقة المحركة للآلات 9600 ، كما بلغت مصاريف تثقيب البرئر 5400 دفع كلاهما نقداً.
 3. في 4/1 تبين للشركة ان البرئر منتج لذا قامت بتركيب انايب استخراج قيمتها 4400 ، وصمامات تحكم بالإنتاج 5000 (صرف كلاهما من المخازن) وبلغت نفقات نقلها وتركيبها 5800 دينار دفعت نقداً.
 4. في 5/1 قامت الشركة بشراء المعدات والتجهيزات التالية من موردي الشركة على الحساب : انايب التوصيل 15000 ، اجهزة فصل النفط عن المياه 40,000 ، غلايات 250,000 ، مستودعات التخزين 300,000 ، وفي نفس التاريخ بلغت نفقات النقل والتركيب للمواد المشتراة 250,000 (5% منها تخص تركيب انايب التوصيل) دفعت نقداً.

المطلوب/ اثبات القيود اليومية اللازمة ومعالجة النفقات في دفاتر الشركة، اذا علمت ان المواد الغير مستعملة قد اعيدت الى مخازن الشركة بعد انتهاء عمليات الحفر (20 درجة)

- س2/ في احدى الشركات النفطية بلغ المخزون النفطي في مستودعات الشركة 240,000 برميل ، وخلال العام تمت العمليات التالية:
1. في شهر كانون الثاني بلغت كمية انتاج النفط الخام 320,000 برميل ، وكمية مبيعات النفط الخام 380,000 برميل ، ولقد استهلكت الشركة 9,000 برميل في تشغيل الآلات.
 2. في شهر شباط بلغت كمية انتاج النفط انخام 350,000 ، وكمية المبيعات 395,000 ، ولقد استهلكت الشركة 5,000 برميل في تشغيل الآلات.
 3. في شهر اذار بلغت كمية الانتاج 420,000 برميل ، وكمية المبيعات 510,000 برميل ، ولقد استهلكت الشركة 40% من الكمية المتوفرة في مستودعات الشركة في تشغيل آلات.
- المطلوب / تسجيل القيود اليومية اللازمة، علما ان سعر البرميل النفط عند الانتاج هو 19 دينار وعند البيع 21 دينار اذا علمت ان جميع عمليات البيع تمت بشيك . (15 درجة)

س3//أجب عن الفرعين:

أ- انتجت إحدى الشركات ما يولد 25,000,000,000 وحدة حرارية من النفط الخام ، و 5,000,000,000 وحدة حرارية من الغاز الطبيعي ، فإذا كانت التكلفة الاجمالية المشتركة بين المنتجات هي 123,000,000 وبافتراض ان سعر البيع 15000 لبرميل النفط ، و 10 للقدم المكعب من الغاز.

اوجد مايلي:

1- نصيب برميل النفط الواحد من التكاليف المشتركة بالطريقة الحرارية.


2- نصيب النفط الخام من التكاليف المشتركة بالطريقة البيعية

ب// في حالة التطوير الكلي للمنطقة ، اذا توفر لديك ما يلي: قسط نفاذ الانتاج 600,000 ، كمية الانتاج خلال الع 150,000 ، الاحتياطي المقدر اخر المدة 3350,000 ، تكاليف الحصول على حق الامتياز 5250,000 ، علما انه يوجد مخصص انفاذ متراكم . احسب تكاليف الحفر غير الملموسة؟ (15 درجة)


س4/ حصلت شركة نفط البصرة في عام 2009 على حق امتياز بكلفة (800,000,000) دينار مقسم الى ثلاث عقود موزعة كالآتي: (35% ، 25% ، 40%) على التوالي ، كما بلغت انفاقات الشركة خلال نفس العام على العقد الثاني (100,000,000) دينار ، في عام 2010 قررت الشركة بيع العقد رقم (2) بمبلغ 350,000,000 دينار و في عام 2011 تم التنازل عن العقد رقم (1) لعدم وجود النفط فيه، و في عام 2012 وجد ان العقد رقم (3) منتف وبكميات تجارية من النفط.

المطلوب / تسجيل القيود اليومية اللازمة اذا علمت ان الشركة تحتسب اندثار سنوي بنسبة 8% من رصيد اجمالي عقود الامتياز غير المعدة. علما ان جميع العمليات تمت بشيك . (15 درجة)


*** مع تمنياتي لكم بالنجاح ***


العميد

أ د عبد الحسين شبلي


رئيس القسم

ا.م د الهام الشاوي


مدرسي المادة
م مصطفى محمد السندي
م. علي طه ياسين

المادة: تدريب محاسبي
المرحلة: الثالثة
الوقت: ساعتان
التاريخ: ٢٠٢٣/٦/٧



أسئلة الامتحان النهائي
الكورس الثاني
للعام الدراسي
٢٠٢٣/٢٠٢٢
نموذج (١)



جامعة البصرة
الإدارة والاقتصاد
قسم المحاسبة
المسابحية والمسابحية

الفترة الإجابة الصحيحة لكل مما يلي: (١٠ درجات)

مما يلي يعتبر المرشد في تنفيذ العمليات المحاسبية منذ بداية الدورة المستندية مروراً بالسجلات الى ان تصل المعلومات لمستخدميها:
المستندات

ب. السجلات والدفاتر المحاسبية
ج. دليل الحسابات
د. جميع ما ذكر

حالة حدوث منازعات او دعاوى قضائية بين احدى المؤسسات الحكومية والغير يمكن اعتبار المستند:
مراجع قضائي

ب. دليل قانوني
ج. تشريع قانوني
د. لا شيء مما ذكر

المستندات التي تحررها او تقوم بإعدادها المؤسسة الحكومية:
مستندات مباشرة
ب. مستندات داخلية

ج. (أ + ب)
د. لا شيء مما ذكر

ورقة يرسلها المصرف الى الشركة لبيان بأنه تم خصم مبلغ معين من رصيد الشركة في هذا المصرف:
كشف الحساب
ب. الشيك
ج. الاشعار المدين
د. الاشعار الدائن

قيام الوحدة الحكومية بتحصيل أي مبلغ نقدي سواء كان نقداً او بشيك فإنها تقوم بأعداد:
وصل قبض
ب. مستند قيد
ج. (أ + ب)
د. لا شيء مما ذكر

سلف الصيانة أحد أنواع السلف التالية:

السلف المؤقتة
ب. سلف المقاولين
ج. السلف المستديمة
د. سلف الافراد العاملين

سلف الراتب أحد أنواع السلف التالية:

السلف المؤقتة
ب. سلف المقاولين
ج. السلف المستديمة
د. سلف الافراد العاملين

مما يلي يمثل سلفة يتم دفعها للموظفين عند تكليفهم بمهام خارج الدولة:

سلف السفر
ب. سلف الايفاد
ج. (أ + ب)
د. جميع ما ذكر

بتاريخ ٢٠١٤/٥/٤ اشترت مديرية بلدية البصرة معدات بمبلغ ٩٧٠,٠٠٠ دينار من محلات الولاء لصاحبها السيد وائل كظم حسين وقد دفعت المبلغ بالشيك المرقم (٠٠٥٥٤٦) المؤرخ في ٢٠١٤/٥/٤، وعليه سيتم تسجيل القيد التالي:
٩٧٠,٠٠٠ من ح/ المصروفات الرأسمالية
٩٧٠,٠٠٠ الى ح/ المصرف
٩٧٠,٠٠٠ من ح/ الأثاث
٩٧٠,٠٠٠ الى ح/ المصرف

د. لا شيء مما ذكر
(أ + ب)

بتاريخ ٢٠٢٠/٥/١٢ استلمت مديرية بلدية البصرة اشعاراً من المصرف يعلمها بإيداع مبلغ مقداره ٦٥٠,٠٠٠ دينار حسابها الجاري المفتوح لدى مصرف الرشيد/ فرع العشار، وعليه سيتم تنظيم مستند قيد وفق ما يلي:
٦٥٠,٠٠٠ من ح/ المصرف
٦٥٠,٠٠٠ الى ح/ الإيرادات
٦٥٠,٠٠٠ من ح/ المصرف
٦٥٠,٠٠٠ الى ح/ دائرة المحاسبة

د. لا شيء مما ذكر
٦٥٠,٠٠٠ من ح/ دائرة المحاسبة
٦٥٠,٠٠٠ الى ح/ المصرف

س ٢: أجب عن واحدة فقط مما يلي: (١٥ درجة)

١. وضح بالتفصيل أنواع المستندات الداخلية وآلية التسجيل في كل منها.

٢. وضح بالتفصيل الفرق بين النظام المحاسبي الحكومي المركزي والنظام المحاسبي الحكومي اللامركزي (المحاسبي) مستعرضاً بذلك امثلة على الوحدات التي تطبق كل نظام والصلاحيات التي يمنحها كل نظام للحكومية.

س ٣: فيما يلي العمليات المالية التي تمت في دائرة صحة البصرة لعام ٢٠٢٢: (٢٥ درجة)

١. بتاريخ ٢٠٢٢/١/١٥ منحت دائرة صحة البصرة سلفة بمبلغ (١٠٠,٠٠٠,٠٠٠) دينار الى لجنة صيانة الاليات صيانة سياراتها بموجب الشيك المرقم (٠٠٣٨١٩) في ٢٠٢٢/١/١٥، علماً ان الدليل المحاسبي لحساب المستديمة/ سلف الصيانة (المستوى الأول ٣، المستوى الثاني ٢، المستوى الثالث ٣)، والدليل المحاسبي لحساب (المستوى الأول ٣، المستوى الثاني ١، المستوى الثالث ٢)، علماً ان رقم الحساب الجاري لدائرة صحة البصرة في مصرف الرشيد/ فرع العشار هو (٢٩١).

٢. بتاريخ ٢٠٢٢/١/٣٠ تم تسوية السلفة من قبل لجنة صيانة الاليات من خلال تقديم المستندات الثبوتية التي تعزى الصرف والبالغة (٩,٥٠٠,٠٠٠) دينار واسترجعت لجنة الصيانة المتبقي الى امين الصندوق والذي بدوره نظ قبض بالمبلغ المتبقي وودعه في اليوم التالي في الحساب الجاري واستلم فيشة ايداع من المصرف، علماً ان المحاسبي لحساب صيانة وسائط النقل (عدد ١، مادة ٤، نوع ٣)، والدليل المحاسبي لحساب الصندوق (المستوى ٣، المستوى الثاني ١، المستوى الثالث ١).

المطلوب/ بصفتك موظف في قسم الحسابات لدائرة صحة البصرة قم بأثبات العمليات المالية من خلال تنظيم الم المناسبة وترحيلها الى السجلات المختصة.

مع تمنياتنا لكم بالنجاح..

العميد

أ. د عبد الحسين توفيق شبلي

رئيس القسم


أ. م. د الهام جعفر الشاوي

م. م. سمير إسماعيل
م. م. بشرى علي
مدرسي المادة

المادة: منهجية بحث
المرحلة: الثالثة
الوقت: 2 ساعة
التاريخ: / / 2023



اسئلة الامتحان
الدور - الاول
الكورس الثاني
للعام الدراسي
2023/2022



جامعة البصرة
كلية الإدارة والاقتصاد
المحاسبة
المسابحية
المحاسبية

عن خمسة أسئلة فقط.

حدد من الخطوات الأساسية للبحث العلمي ، اذكرها واطرحها.

(10 درجات)..... بيان عبارة عن مجموعه متكاملة ويحتاج الى مجموعة من النقاط ما هي ؟

(10 درجات)..... كيف يتم تصنيف مناهج البحث استنادا الى نوع العمليات العقلية واستنادا الى أسلوب الإجراء .

(10 درجات)..... باختصار المراحل المتتابعة في انجاز البحث العلمي .

(10 درجات)..... علامة صح أمام العبارة الصحيحة وعلامة خطأ أمام العبارة الخاطئة:

المشكلة ومنهج البحث تحديدا واضحا ودقيقا تأتي مرحلة جمع البيانات والمعلومات المتاحة عن المشكلة .
مات هي عبارة عن مجموعة المشاهدات والملاحظات والارقام والآراء المتعلقة بظاهرة او مشكلة معينة .
المصادر الأولية هي دوريات المختصرات والمراجعات والكتب الإرشادية والموسوعات والمواد المترجمة

الاحتمالية العشوائية لا يمكن من خلالها تعميم النتائج على مجتمع الدراسة .
البيانات الأولية انها توفر للباحث الوقت والجهد والنفقات وانها نتاج خبرات سابقة لا يستطيع الباحث

مفتر الإجابة الصحيحة:

العلم التي تؤثر في نجاح الفروض العلمية هي:

السابقة ب. الخبرة المتقدمة ج. القدرة على الابتكار د. جميع ما ذكر

وط العامة للتفكير والبحث العلمي هي:

مرتبلا ب. نشاطا غير هادف ج. يتصف بالدقة د. جميع ما ذكر

المصادر والمراجع البحثية يراعى اهمية الاخذ بالعناصر التالية:

كتاب أو المقالة قراءة متأنية ب. ملاحظة الأفكار الرئيسية والأفكار الثانوية ج. توظيف الذهن بنطاق

جميع ما ذكر

العلم التي تحدث في تحديد مشكلة البحث هي:

مشكلة ضيقة النطاق ب. عدم سعي الباحث الى المثاليه ج. عدم الركاكه والوضوح د. ليس مما ذكر

البحث المنهجي والتفكير العلمي ب:

المرونة ب. عدم المرونة ج. وصف لما هو غير موجود د. ليس مما ذكر

(10 درجات).....

مصادر جمع البيانات والمعلومات في مجال البحث العلمي بصورة عامة؟

(10 درجات).....

مع تمنياتي لكم بالنجاح

أ.م.د. الهام الشاوي
رئيس القسم

أ.م.د. عمار يوسف ضجر
مدرس المادة

العميد

أ.د. عبد الحسين توفيق شبلي



ملاحظة: الاجابة عن خمس اسئلة فقط

- س1 اجب عن كلا الفرعين :-
أ- ماهي الاجراءات الواجب اتخاذها من قبل المدقق عند اكتشاف الخطأ والغش؟
ب- هناك مجموع من اهداف الرقابة الداخلية عددها ؟

(10 درجات)

س2 املأ الفراغات الاتية :

1. التدقيق عملية منظمة وهذا يعني اعتماد المدقق على.....
2. المدقق شخص و..... و.....
3. يتناسب التدقيق الكامل مع المنشأة او تلك التي
4. يتبع المدقق احدي الاسلوبين بأخذ العينات في التدقيق الاختباري و.....
5. في التدقيق النهائي يبدأ المدقق عمله بعد.....
6. يبوب التدقيق من حيث الفحص الى..... و.....
7. هو خلاصة العمل التدقيقي للمدقق وهو عبارة عن وثيقة مكتوبة رسمية يقدم الى
الاطراف ذات العلاقة .
8. تصنف معايير التدقيق الامريكية والمقبولة قبولاً عاماً عالمياً الى ثلاث مجموعات هي و.....
9.
تصنف اهداف التدقيق حسب التطور الزمني الذي مر به الى و.....
- 10- يبوب التدقيق من حيث حدود و نطاق عمل المدقق والصلاحيات الممنوحة له لتنفيذ عمله الى
..... و.....

(10 درجات)

- س3 اجب عن الاتي:
- عدد معايير العمل الميداني؟ وبماذا تتعلق في عملية التدقيق؟
 - هل التدقيق علم؟ وضح ذلك.

(10 درجات)

س14 اجب بكلمة صح او خطأ مع تصحيح الخطا ان وجد

1-يعرف الغش المحاسبي حسب المعيار الدولي للتدقيق رقم 240 على انه الفعل أو التحريف غير المقصود الكشوفات والسجلات والتقارير المالية .

2-تتكون لجنة التدقيق من المديرين الغير التنفيذيين والتي تتولى مجموعة من المهام لزيادة فعالية التدقيق الداخلي
3-يعتبر المدقق الداخلي اكثر استقلالية وحيادية من المدقق الخارجي.

4-يأخذ التقرير المتحفظ تحفظا في كلاً من فقرتي النطاق والرأي او التحفظ في فقرة الرأي فقط

5-يصدر مدقق الحسابات تقريراً عكسياً او سلبياً عندما تكون القوائم المالية محرفة تحريفاً جوهرياً.

6-الاستقلالية احدى عناصر الرقابة الداخلية وتعني ان تحترم الموارد والطرق المستخدمة في المؤسسة.
7-يعتبر التأمين على الاصول احد القواعد المحاسبية

8-الرقابة السلبية هي الرقابة التي تركز على اكتشاف الازخفاء والانحرافات وتوجيه انتباه المسؤولين الى القوة والضعف في التنفيذ وتقديم الحلول.

9- استخدام اساليب الرقابة على الجودة هي احدى وسائل الرقابة الادارية.

10-اعداد موازين المراجعة الشهرية هي احدى انواع الرقابة الداخلي (الضبط الداخلي).

(10 درجات)

س15 اجب عن كلا الفرعين

أ- عرف النظام المحاسبي ؟ وعلى ماذا يشمل ؟

ب- التدقيق علم يستجيب للتغيرات والتطور , وبالتالي يحقق مجموعه من الاهداف الحديثة . عدد اهداف التدقيق الحديثة

(10 درجات)

س16 اجب عن كلا الفرعين :

أ- عدد عناصر تقرير المدقق.

ب- للتدقيق النهائي مجموعه من العيوب عددها فقط.

(10 درجات)

مع تمنياتنا لكم بالنجاح

م.م ماهر اسماعيل بدران

م.م حنان صالح الخطيب

م.م فيصل عبد كافي

رئيس القسم / أ.م.د الهام جعفر حميد

العميد / أ.د عبدالحسين توفيق شبلبي



ملاحظة : الاجابة على ثلاثة اسئلة على ان يكون السؤال الاول من ضمنها

١١ / الاتي الارصدة الظاهرة في سجلات احدى الجمعيات الغير هادفة للربح عن النصف الاول من

سنة ٢٠٢٢ :

صرف ٢٤٥٠٠٠ دينار , اثاث ١٣٥٠٠٠ دينار, قرض ١٦٧٠٠٠ دينار, احتياطي راس المال

١٢٨٠٠٠ دينار , رواتب ٨٥٠٠٠ دينار, ايجار ٤٥٠٠٠ دينار, مصاريف كهرباء ٢٤٠٠٠

دينار, اشتراكات ٩٨٠٠٠ دينار, رسوم عضوية ٤٥٠٠٠ دينار, ارباح اسهم ٩٦٠٠٠ دينار.

خلال النصف الثاني من سنة ٢٠٢٢ حدثت العمليات الاتية :

- اقامت الجمعية حفلة بلغت ايراداتها ٢٨٠٠٠ دينار ومصروفاتها ٣٥٠٠٠ دينار.

- تم قبض اشتراكات بمبلغ ٤٨٠٠٠ دينار.

- تم دفع مصاريف كهرباء بمبلغ ٣٧٠٠٠ دينار.

- تم قبض مبلغ ارباح اسهم ١٧٠٠٠ دينار.

- تم دفع رواتب بمبلغ ٢٥٠٠٠ دينار. -٦ سددت جزء من مبلغ القرض بقيمة ٢٢٠٠٠ دينار.

في ٢٠٢٢/١٢/٣١ تبين الاتي :

- ان الاثاث يندثر بنسبة ١٠٪ قسط ثابت سنويا.

- هنالك اشتراكات مستحقة على الاعضاء بمبلغ ١٢٠٠٠ دينار.

- هنالك اشتراكات مقبوضة مقدما من الاعضاء عن السنة القادمة بمبلغ ٩٠٠٠ دينار.

- رواتب شهر كانون الاول لم تدفع للعاملين والتي بلغت ٢١٠٠٠ دينار.

المطلوب : ١- اثبات قيود اليومية اللازمة, ٢- تصوير ح/ المقبوضات والمدفوعات .

- تصوير ح/ المقبوضات والمدفوعات . ٤- اعداد الميزانية العمومية بتاريخ ٢٠٢٢/١٢/٣١ .

(٢٠ درجة)

١٢ / حصلت دار الايتام على تبرع لبناء مدرسة وبلغ ما انفق على المدرسة خلال اول السنة وهي

سنة ٢٠١٩ (١٠٨) مليون دينار وهو ما يعادل ٤٠٪ من قيمة التبرع. وانفق خلال سنة ٢٠٢٠

(١٥٠) مليون دينار وفي السنة الثالثة لم يكفي المبلغ المتبقي لاكمال بناء المدرسة وتم مطالبة المتبرع

بمبلغ (٢٤) مليون دينار اظافي وتم استلام المبلغ واكمال بناء المدرسة نهاية سنة ٢٠٢١ .

المطلوب : اثبات قيود اليومية اللازمة وبيان اثرها على الحسابات الختامية والميزانية العمومية .

(١٥ درجة)

س ٣ // وضح بالتفصيل (مفهوم النظام المحاسبي في الوحدات غير هادفة للربح، صفاته، عناصره) (١٥ درجة)

س ٤ // بتاريخ ٢٠٢٠/١/١ كانت ارصدة حسابات الاشتراكات المستحقة والمستلمة مقدما (٢٠٠٠٠٠٠ دينار) ٣٠٠٠٠٠٠ دينار على التوالي)

والمعلومات الآتية مستخرجة من سجلات ذلك النادي الخيري :

- عدد الاعضاء ٢٥ عضواً

- قيمة الاشتراك السنوي للعضو الواحد هو ٦٠٠٠٠٠٠ دينار

- بلغ عدد الاعضاء الذين سددوا اشتراكهم نقداً خلال عام ٢٠٢٠ هو (٢٠ عضواً)

- وفي نهاية عام ٢٠٢٠ تبين ان خمسة اعضاء قاموا بسداد اشتراكات مقدماً لمدة (٢٠٢١ و ٢٠٢٢ و ٢٠٢٣

ونصف عام ٢٠٢٤) وان خمسة اعضاء اخرين لم يسددوا اشتراك مدة ستة اشهر من عام ٢٠٢٠

المطلوب // تسجيل القيود اليومية اللازمة خلال عام ٢٠٢٠ و ٢٠٢١ وتصوير حساب الاشتراكات لعام ٢٠٢٠

(١٥ درجة)

مع تمنياتي لكم بالنجاح و التوفيق

رئيس القسم

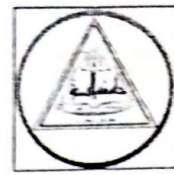
أ.م.د. الهام جعفر الشاوي

مدرسا المادة

د. مهند هادي صالح / م.م - محمد فرج

العميد

أ.د. عبدالحسين توفيق شبلي



ملاحظة // الاجابة على اربعة اسئلة (توزع الدرجة بالتساوي 12.5 درجة لكل سؤال) :

1/ في 2019/8/1 تأسست شركة التلال المساهمة المختلطة براس مال قدره 300 مليون دينار (300 مليون سهم اسمية دينار واحد للسهم) مدفوع بنسبة 70% عند الاكتتاب والباقي يسدد بقسط واحد بعد مرور ستة اشهر على تأسيس الشركة فاذا علمت ما يأتي :

1- اكتتب المؤسسون بنسبة 40% من راس المال وطرح المتبقي للاكتتاب العام لدى احد المصارف العراقية.

2- اكتتب الجمهور بنسبة 120% من الأسهم المطروحة للاكتتاب العام.

3- بلغت نفقات التأسيس 2000000 دينار دفعت نقدا.

4- اعيدت الزيادة في الاكتتاب الى المساهمين بشكل العام.

5- 2020/2/1 استلمت الأقساط المستحقة على المساهمين نقداً عما يخص احدهم الذي اكتتب بمليون سهم عجز عن السداد.

6- في تاريخ 2020/3/15 وبعد انذار المساهم أعلاه تم بيع أسهمه بالمزاد العني وبمبلغ 1.3 دينار للسهم الواحد وبلغت مصاريف البيع 300 الف دينار وقد تم تصفية حساب المساهم مع الشركة.

الطلب / (1) اثبات القيود الافتتاحية للشركة المساهمة ؟ (2) اثبات القيود المحاسبية اللازمة لمعالجة استلام أقساط مساهمين؟؟

2/ فيما يلي قائمة الميزانية العمومية لشركة البصرة التجارية المساهمة كما هي عليه في 2022/1/1 :

الموجودات	المبالغ	الالتزامات وحقوق الملكية
الموجودات المتداولة	800000	الالتزامات قصيرة الاجل
الموجودات الثابتة (صافي)	2000000	راس المال (1 دينار للسهم)
براءة الاختراع	1000000	علاوة اصدار الاسهم
	1200000	الارباح المحتجزة
مجموع الموجودات	5000000	مجموع الالتزامات وحقوق الملكية

في ذلك التاريخ قررت شركة بغداد التجارية المساهمة إكتساب اصول شركة البصرة بعد تقييمها وفقاً لقيمتها السوقية ما يلي :

موجودات المتداولة 1200000 دينار
موجودات الثابتة 3800000 دينار
براءة الاختراع 1100000 دينار

الطلب / اثبات المعالجات المحاسبية اللازمة للاندماج بين الشركتين علماً ان تكلفة الشراء 4900000 دينار نقداً ؟

س3 / في 2020/1/1 اظهرت قائمة المركز المالي لشركة اليقين المساهمة الخاصة الارصدة التالية والخاصة بحقوق الملكية :

رأس المال الاسمي (1 دينار لكل سهم) 30000000 دينار
رأس المال المصدر والمدفوع (80% من الاسمي) 24000000 دينار
الارباح المحتجزة 17000000 دينار

وخلال السنة المالية 2020 تمت العمليات المالية التالية :

- 1- تم اصدار الاسهم غير المصدرة للشركة بسعر 5 دينار للسهم نقداً .
- 2- اعلنت الشركة ودفعت توزيعات ارباح نقدية وبواقع 0.200 دينار للسهم.
- 3- اعلنت الشركة واصدرت توزيعات ارباح في شكل اسهم ونسبة 20% من اجمالي عدد الاسهم المصدرة 2.750 دينار للسهم .
- 4- اجرت الشركة تصحيح لخطأ محاسبي من السنة المالية 2019 ترتب عليه تقييم حساب المخزون والارباح المحتجزة بأقل مما يجب وبمبلغ 750000 دينار .

- 1- القيد المحاسبي اللازم تسجيله في سجلات الشركة لكل عملية وبشكل مستقل ؟
- 2- بيان اثر كل عملية وبشكل مستقل على حسابات حقوق الملكية ؟؟
- 3- احتساب القيمة الدفترية لسهم الشركة بعد كل عملية وبشكل مستقل ؟؟؟

س4 / بتاريخ 2008/1/1 قامت شركة س بشراء 90% من أسهم شركة ص وذلك بإصدار 67500 سهم من أسهم شركة س وكانت السوقية للسهم شركة س 3 دينار علماً إن القيمة السوقية لبعض موجودات ومطلوبات الشركة ص كما يلي : المخزون 187500 ، الموجودات الثابتة 380000 ، القروض والسندات 200000 . وأدناه ميزانية شركتي و ص كما هي عليه في تاريخ الشراء :

شركة ص	شركة س	البيانات
50000	400000	نقدية & مدينون
125000	300000	المخزون
400000	1150000	موجودات ثابتة
575000	1850000	مج الموجودات
100000	200000	الدائون
—	150000	أرصدة دائنة
250000	—	قروض وسندات
50000	750000	راس المال
62500	450000	علاوة الأصدار
112500	300000	إرباح محتجزة
575000	1850000	مج المطلوبات وحق الملكية

المطلوب / 1) إثبات قيد الشراء (الاستثمار) ؟ (2) إعداد ورقة عمل تمهيداً لإعداد ميزانية موحدة ؟؟ (3) إثبات الاستبعاد ؟؟؟

يبلغ رأس المال المصرح به لإحدى الشركات المساهمة 20000000 دينار مقسم إلى 20000000 سهم ،
الاسمية للسهم الواحد دينار واحد . سبق للشركة إصدار 15000000 سهم بالقيمة الاسمية مدفوع منه 80 %
قررت الشركة إصدار باقي الأسهم بعد السداد لكافة الإقساط الغير مقبوضة من المساهمين . وقد تم استلام
الغير مقبوضة من المساهمين إلا ادهم الذي بلغت قيمة إقساطه المستحقة البالغة 60000 دينار وقد قررت
بيع أسهمه بالمزاد العلني وتم البيع فعلاً بسعر 1,100 دينار للسهم الواحد وبلغت مصاريف البيع 20000
إصدار باقي الأسهم للاكتتاب العام وعلى أساس سعر 1,500 دينار للسهم الواحد . وقد اكتتب الجمهور
100% من الأسهم المطروحة للاكتتاب وبلغت مصاريف الإصدار 30000 دينار .

إثبات القيود المحاسبية اللازمة ؟

.... مع الامنيات لكم بالنجاح والتوفيق



م.م. ماهر اسماعيل بدران



أ.م.د. منذر جبار داغر



م.م. توفيق شبلي



العميد / أ.د. عبدالحسين توفيق شبلي



م.م. د. الهام جعفر الشاوي



ملاحظة // الاجابة على اربعة اسئلة (توزع الدرجة بالتساوي 12.5 درجة لكل سؤال) :

1- في 2019/8/1 تأسست شركة التلال المساهمة المختلطة براس مال قدره 300 مليون دينار (300 مليون سهم اسمية دينار واحد للسهم) مدفوع بنسبة 70% عند الاكتتاب والباقي يسدد بقسط واحد بعد مرور ستة اشهر على الشركة فاذا علمت ما يأتي :

1- اكتب المؤسسون بنسبة 40% من راس المال وطرح المتبقي للاكتتاب العام لدى احد المصارف العراقية.

2- اكتب الجمهور بنسبة 120% من الأسهم المطروحة للاكتتاب العام.

3- بلغت نفقات التأسيس 2000000 دينار دفعت نقدا.

4- اعيدت الزيادة في الاكتتاب الى المساهمين بشكل العام.

5- في 2020/2/1 استلمت الأقساط المستحقة على المساهمين نقداً عدا ما يخص ادهم الذي اكتب بمليون سهم عجز عن السداد.

6- في تاريخ 2020/3/15 وبعد انذار المساهم أعلاه تم بيع أسهمه بالمزاد العلني وبمبلغ 1.3 دينار للسهم الواحد وبلغت مصاريف البيع 300 الف دينار وقد تم تصفية حساب المساهم مع الشركة.

وب / (1) اثبات القيود الافتتاحية للشركة المساهمة ؟ (2) اثبات القيود المحاسبية اللازمة لمعالجة استلام أقساط المساهمين؟؟

7- فيما يلي قائمة الميزانية العمومية لشركة البصرة التجارية المساهمة كما هي عليه في 2022/1/1 :

نوع	الموجودات	المبالغ	الالتزامات وحقوق الملكية
1000	الموجودات المتداولة	800000	الالتزامات قصيرة الاجل
2500	الموجودات الثابتة (صافي)	2000000	راس المال (1 دينار للسهم)
1500	براءة الاختراع	1000000	علاوة اصدار الاسهم
		1200000	الارباح المحتجزة
5000	مجموع الموجودات	5000000	مجموع الالتزامات وحقوق الملكية

انك التاريخ قررت شركة بغداد التجارية المساهمة اكتساب اصول شركة البصرة بعد تقييمها وفقاً لقيمتها السوقية
البي :

جودات المتداولة 1200000 دينار

جودات الثابتة 3800000 دينار

براءة الاختراع 1100000 دينار

المرب / اثبات المعالجات المحاسبية اللازمة للاندماج بين الشركتين علماً ان تكلفة الشراء 4900000 دينار نقداً ؟

س3 / في 2020/1/1 اظهرت قائمة المركز المالي لشركة اليقين المساهمة الخاصة الارصدة التالية والخاصة حقوق الملكية :

رأس المال الاسمي (1 دينار لكل سهم) 30000000 دينار
رأس المال المصدر والمدفوع (80% من الاسمي) 24000000 دينار
الارباح المحتجزة 17000000 دينار

وخلال السنة المالية 2020 تمت العمليات المالية التالية :

- 1- تم اصدار الاسهم غير المصدرة للشركة بسعر 5 دينار للسهم نقداً .
- 2- اعلنت الشركة ودفعت توزيعات ارباح نقدية وبواقع 0.200 دينار للسهم.
- 3- اعلنت الشركة واصدرت توزيعات ارباح في شكل اسهم وبنسبة 20% من اجمالي عدد الاسهم المصدرة 2.750 دينار للسهم .
- 4- اجرت الشركة تصحيح لخطأ محاسبي من السنة المالية 2019 ترتب عليه تقييم حساب المخزون الارباح المحتجزة بأقل مما يجب وبمبلغ 750000 دينار .

- المطلوب / 1- الفيد المحاسبي اللازم تسجيله في سجلات الشركة لكل عملية وبشكل مستقل ؟
2- بيان اثر كل عملية وبشكل مستقل على حسابات حقوق الملكية ؟؟
3- احتساب القيمة الدفترية لسهم الشركة بعد كل عملية وبشكل مستقل ؟؟؟

س4 / بتاريخ 2008/1/1 قامت شركة س بشراء 90% من أسهم شركة ص وذلك بإصدار 67500 سهم من أس شركة س وكانت السوقية للسهم شركة س 3 دينار علماً إن القيمة السوقية لبعض موجودات ومطلوبات الشركة ص كما يلي : المخزون 187500 ، الموجودات الثابتة 380000 ، القروض والسندات 200000 . وأدناه ميزانية شرك و ص كما هي عليه في تاريخ الشراء :

البيانات	شركة س	شركة ص
نقدية & مدينون	400000	50000
المخزون	300000	125000
موجودات ثابتة	1150000	400000
مج الموجودات	1850000	575000
الدائون	200000	100000
أرصدة دائنة	150000	—
قروض وسندات	—	250000
راس المال	750000	50000
علاوة الأصدار	450000	62500
إرباح محتجزة	300000	112500
مج المطلوبات وحق الملكية	1850000	575000

المطلوب / 1) إثبات قيد الشراء (الاستثمار) ؟ (2) إعداد ورقة عمل تمهيداً لإعداد ميزانية موحدة ؟؟ (3) إثبات الاستبعاد ؟؟؟

يبلغ رأس المال المصرح به لإحدى الشركات المساهمة 20000000 دينار مقسم إلى 20000000 سهم ،
الاسمية للسهم الواحد دينار واحد . سبق للشركة إصدار 15000000 سهم بالقيمة الاسمية مدفوع منه 80 %
قررت الشركة إصدار باقي الأسهم بعد السداد لكافة الإقساط الغير مقبوضة من المساهمين . وقد تم استلام
الغير مقبوضة من المساهمين إلا ادهم الذي بلغت قيمة إقساطه المستحقة البالغة 60000 دينار وقد قررت
بيع أسهمه بالمزاد العلني وتم البيع فعلاً بسعر 1,100 دينار للسهم الواحد وبلغت مصاريف البيع 20000
إصدار باقي الأسهم للاكتتاب العام وعلى أساس سعر 1,500 دينار للسهم الواحد . وقد اكتتب الجمهور
100% من الأسهم المطروحة للاكتتاب وبلغت مصاريف الإصدار 30000 دينار .

إثبات القيود المحاسبية اللازمة ؟

.... مع الامنيات لكم بالنجاح والتوفيق

م.م. ماهر اسماعيل بدران

أ.م.د. منكر جبار داغر

م.م. توفيق شبلي

العميد / أ.د. عبدالحسين توفيق شبلي

القسم / أ.م.د. الهام جعفر الشاوي



Q 1/ ANSWER A or B
A / Choose the correct answer:

1. If taxes are ignored, all of the following items are included in a discounted cash flow analysis except:
- A) future operating cash savings.
 - B) depreciation expense.
 - C) future salvage value.
 - D) investment in working capital.

2. The internal rate of return for a project can be determined:
- A) only if the project's cash flows are constant.
 - B) by finding the discount rate that yields a zero net present value for the project.
 - C) by subtracting the company's cost of capital from the project's profitability index.
 - D) only if the project profitability index is greater than zero.

3. In net present value analysis, the release of working capital at the end of a project should be:
- A) ignored.
 - B) included as a cash outflow.
 - C) included as a cash inflow.
 - D) included as a tax deduction.

4. (Ignore income taxes in this problem.) Fossa Road Paving Company is considering an investment in a curb-forming machine. The machine will cost \$240,000, will last 10 years, and will have a \$40,000 salvage value at the end of 10 years. The machine is expected to generate net cash inflows of \$60,000 per year in each of the 10 years. Fossa's discount rate is 18%. What is the net present value of this machine?
- A) \$5,840 B) \$37,280 C) \$(48,780) D) \$69,640

5. (Ignore income taxes in this problem.) The Laws company has decided to buy a machine costing \$16,000. Estimated cash savings from using the new machine amount to \$4,120 per year. The machine will have no salvage value at the end of its useful life of six years. If the required rate of return for Laws Company is 12%, the machine's internal rate of return is closest to:
- A) 12% B) 14% C) 16% D) 18%

B / Answer 5 of the following sentences by TRUE or FALSE

1. Budgeting includes only the financial aspects of the plan and NOT any nonfinancial aspects such as the number of physical units manufactured.
2. A budget is the quantitative expression of a proposed plan of action by management for a specified period.
3. Budgets can play both planning and control roles for management.
4. A capital budget spans only a one-year period.

- The three common discounted cash flow methods are net present value, internal rate of return, and payback.
- The net present value (NPV) method calculates the expected monetary gain or loss from a project by discounting all expected future cash inflows and outflows back to the present point in time using the required rate of return.

Q2) BASRAH Corporation has the following budgeted sales for the next six-month period: (10 Mark)

Month	Unit Sales	Month	Unit Sales
June	90,000	September	150,000
July	120,000	October	180,000
August	210,000	November	120,000

There were 30,000 units of finished goods in inventory at the beginning of June. Plans are to have an inventory of finished products that equal 20% of the unit sales for the next month. Five pounds of materials are required for each unit produced. Each pound of material costs \$8. Inventory levels for materials are equal to 30% of the needs for the next month. Materials inventory on June 1 was 15000 pounds.

Required:

- Prepare production budgets in units for July, August, and September.
- Prepare a purchases budget in pounds for July, August, and September, and give total purchases in both pounds and dollars for each month.

(20 Mark)

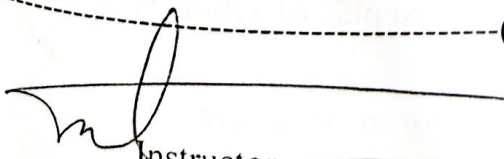
Q3) Baghdad Inc. is considering the acquisition of equipment that costs \$340,000 and has a useful life of 6 years with no salvage value. The incremental net cash flows that would be generated by the equipment are:

Net Cash Flows

Year 1	\$94,000
Year 2	\$133,000
Year 3	\$96,000
Year 4	\$116,000
Year 5	\$115,000
Year 6	\$87,000

- If the discount rate is 17%, the net present value of the investment is closest to:
 A) \$45,811 B) \$385,811 C) \$301,000 D) \$117,341
- The payback period of this investment, rounded off to the nearest tenth of a year, is closest to:
 A) 3.9 years B) 3.6 years C) 3.1 years D) 5.0 years

(20 Mark)


 Instructor
 Dr. MOHANAD MOHAMED



 Head of Dept.
 Dr. ELHAM AL-SHAWI
 p. 15. Abdulhasan, T. Shabli

EXHIBIT 20B-1

Present Value of \$1*

Periods	2%	4%	6%	8%	10%	12%	14%	16%	18%	20%	22%	24%	26%	28%	30%	32%	40%
1	0.980	0.962	0.943	0.926	0.909	0.893	0.877	0.862	0.847	0.833	0.820	0.806	0.794	0.781	0.769	0.758	0.714
2	0.961	0.925	0.890	0.857	0.826	0.797	0.769	0.743	0.718	0.694	0.672	0.650	0.630	0.610	0.592	0.574	0.510
3	0.942	0.889	0.840	0.794	0.751	0.712	0.675	0.641	0.609	0.579	0.551	0.524	0.500	0.477	0.455	0.435	0.364
4	0.924	0.855	0.792	0.735	0.683	0.636	0.592	0.552	0.516	0.482	0.451	0.423	0.397	0.373	0.350	0.329	0.260
5	0.906	0.822	0.747	0.681	0.621	0.567	0.519	0.476	0.437	0.402	0.370	0.341	0.315	0.291	0.269	0.250	0.186
6	0.888	0.790	0.705	0.636	0.564	0.507	0.456	0.410	0.370	0.335	0.303	0.275	0.250	0.227	0.207	0.189	0.133
7	0.871	0.760	0.665	0.583	0.513	0.452	0.400	0.354	0.314	0.279	0.249	0.222	0.198	0.178	0.159	0.143	0.095
8	0.853	0.731	0.627	0.540	0.467	0.404	0.351	0.305	0.266	0.233	0.204	0.179	0.157	0.139	0.125	0.108	0.068
9	0.837	0.703	0.592	0.500	0.424	0.361	0.308	0.263	0.225	0.194	0.167	0.144	0.125	0.108	0.094	0.082	0.048
10	0.820	0.676	0.558	0.463	0.386	0.322	0.270	0.227	0.191	0.162	0.137	0.116	0.099	0.085	0.073	0.062	0.035
11	0.804	0.650	0.527	0.429	0.350	0.287	0.235	0.195	0.162	0.135	0.112	0.094	0.079	0.066	0.056	0.046	0.025
12	0.788	0.625	0.497	0.397	0.319	0.257	0.208	0.168	0.137	0.112	0.092	0.076	0.062	0.052	0.043	0.036	0.018
13	0.773	0.601	0.469	0.368	0.290	0.229	0.182	0.145	0.116	0.093	0.075	0.061	0.050	0.040	0.033	0.027	0.013
14	0.758	0.577	0.442	0.340	0.263	0.205	0.160	0.125	0.099	0.078	0.062	0.049	0.039	0.032	0.025	0.021	0.009
15	0.743	0.555	0.417	0.315	0.239	0.183	0.140	0.108	0.084	0.065	0.051	0.040	0.031	0.025	0.020	0.016	0.006
16	0.728	0.534	0.394	0.292	0.218	0.163	0.123	0.093	0.071	0.054	0.042	0.032	0.025	0.019	0.015	0.012	0.005
17	0.714	0.513	0.371	0.270	0.198	0.146	0.108	0.080	0.060	0.045	0.034	0.026	0.020	0.015	0.012	0.009	0.003
18	0.700	0.494	0.350	0.250	0.180	0.130	0.095	0.069	0.051	0.038	0.028	0.021	0.016	0.012	0.009	0.007	0.002
19	0.686	0.475	0.331	0.232	0.164	0.116	0.083	0.060	0.043	0.031	0.023	0.017	0.012	0.009	0.007	0.005	0.002
20	0.673	0.456	0.312	0.215	0.149	0.104	0.073	0.051	0.037	0.026	0.019	0.014	0.010	0.007	0.005	0.004	0.001
21	0.660	0.439	0.294	0.199	0.135	0.093	0.064	0.044	0.031	0.022	0.015	0.011	0.008	0.006	0.004	0.003	0.001
22	0.647	0.422	0.278	0.184	0.123	0.083	0.056	0.038	0.026	0.018	0.013	0.009	0.006	0.004	0.003	0.002	0.001
23	0.634	0.406	0.262	0.170	0.112	0.074	0.049	0.033	0.022	0.015	0.010	0.007	0.005	0.003	0.002	0.002	0.000
24	0.622	0.390	0.247	0.158	0.102	0.066	0.043	0.028	0.019	0.013	0.008	0.006	0.004	0.003	0.002	0.002	0.000
25	0.610	0.375	0.233	0.146	0.092	0.059	0.038	0.024	0.016	0.010	0.007	0.005	0.003	0.002	0.001	0.001	0.000
26	0.598	0.361	0.220	0.135	0.084	0.053	0.033	0.021	0.014	0.009	0.006	0.004	0.002	0.002	0.001	0.001	0.000
27	0.586	0.347	0.207	0.125	0.076	0.047	0.029	0.018	0.011	0.007	0.005	0.003	0.002	0.001	0.001	0.001	0.000
28	0.574	0.333	0.196	0.116	0.069	0.042	0.026	0.016	0.010	0.006	0.004	0.002	0.002	0.001	0.001	0.001	0.000
29	0.563	0.321	0.185	0.107	0.063	0.037	0.022	0.014	0.008	0.005	0.003	0.002	0.001	0.001	0.001	0.000	0.000
30	0.552	0.308	0.174	0.099	0.057	0.033	0.020	0.012	0.007	0.004	0.003	0.002	0.001	0.001	0.001	0.000	0.000

EXHIBIT 20B-2

Present Value of an Annuity of \$1 in Arrears*

Periods	2%	4%	6%	8%	10%	12%	14%	16%	18%	20%	22%	24%	26%	28%	30%	32%	40%
1	0.980	0.962	0.945	0.926	0.909	0.893	0.877	0.862	0.847	0.833	0.820	0.806	0.794	0.781	0.769	0.758	0.714
2	1.942	1.866	1.835	1.785	1.736	1.690	1.647	1.605	1.566	1.528	1.492	1.457	1.424	1.392	1.361	1.331	1.224
3	2.884	2.775	2.675	2.577	2.487	2.402	2.322	2.246	2.174	2.106	2.042	1.981	1.923	1.868	1.816	1.766	1.589
4	3.808	3.630	3.465	3.312	3.170	3.037	2.914	2.798	2.690	2.589	2.494	2.404	2.320	2.241	2.166	2.096	1.849
5	4.715	4.452	4.212	3.993	3.791	3.605	3.433	3.274	3.127	2.991	2.864	2.745	2.635	2.532	2.436	2.345	2.035
6	5.601	5.242	4.917	4.623	4.355	4.111	3.889	3.685	3.498	3.326	3.167	3.020	2.885	2.759	2.643	2.534	2.168
7	6.472	6.002	5.582	5.206	4.868	4.564	4.288	4.039	3.812	3.605	3.416	3.242	3.083	2.937	2.802	2.677	2.263
8	7.325	6.733	6.210	5.747	5.335	4.968	4.639	4.344	4.078	3.837	3.619	3.421	3.241	3.076	2.925	2.786	2.331
9	8.162	7.435	6.802	6.247	5.759	5.328	4.946	4.607	4.305	4.031	3.786	3.566	3.366	3.184	3.019	2.868	2.379
10	8.983	8.111	7.360	6.710	6.145	5.650	5.216	4.833	4.494	4.192	3.923	3.682	3.465	3.269	3.092	2.930	2.414
11	9.787	8.760	7.887	7.139	6.495	5.938	5.453	5.029	4.656	4.327	4.035	3.776	3.543	3.335	3.147	2.978	2.438
12	10.575	9.285	8.284	7.536	6.814	6.194	5.660	5.197	4.793	4.439	4.127	3.851	3.606	3.387	3.190	3.013	2.456
13	11.348	9.986	8.853	7.904	7.103	6.424	5.842	5.342	4.910	4.535	4.203	3.912	3.656	3.427	3.223	3.040	2.469
14	12.106	10.563	9.295	8.244	7.367	6.628	6.002	5.468	5.008	4.611	4.265	3.962	3.695	3.459	3.249	3.061	2.478
15	12.849	11.118	9.712	8.559	7.606	6.811	6.142	5.575	5.092	4.675	4.315	4.001	3.726	3.483	3.268	3.076	2.484
16	13.578	11.652	10.106	8.851	7.824	6.974	6.265	5.668	5.162	4.730	4.357	4.033	3.751	3.503	3.283	3.088	2.489
17	14.292	12.166	10.477	9.122	8.022	7.120	6.373	5.749	5.222	4.775	4.391	4.059	3.771	3.518	3.295	3.097	2.492
18	14.992	12.659	10.828	9.372	8.201	7.250	6.467	5.818	5.275	4.812	4.419	4.080	3.786	3.529	3.304	3.104	2.494
19	15.678	13.134	11.158	9.604	8.365	7.366	6.550	5.877	5.316	4.845	4.442	4.097	3.799	3.539	3.311	3.109	2.496
20	16.351	13.590	11.470	9.818	8.514	7.469	6.623	5.929	5.353	4.870	4.460	4.110	3.808	3.546	3.316	3.113	2.497
21	17.011	14.029	11.764	10.017	8.649	7.562	6.687	5.973	5.384	4.891	4.476	4.121	3.816	3.551	3.320	3.116	2.498
22	17.658	14.451	12.042	10.201	8.772	7.645	6.743	6.011	5.410	4.909	4.488	4.130	3.822	3.556	3.325	3.118	2.498
23	18.292	14.857	12.303	10.371	8.883	7.718	6.792	6.044	5.432	4.925	4.499	4.137	3.827	3.559	3.325	3.120	2.499
24	18.914	15.247	12.550	10.529	8.985	7.784	6.835	6.073	5.451	4.937	4.507	4.143	3.831	3.562	3.327	3.121	2.499
25	19.523	15.622	12.783	10.675	9.077	7.843	6.873	6.097	5.467	4.948	4.514	4.147	3.834	3.564	3.329	3.122	2.499
26	20.121	15.983	13.003	10.810	9.161	7.896	6.906	6.118	5.480	4.956	4.520	4.151	3.837	3.566	3.330	3.123	2.500
27	20.707	16.330	13.211	10.935	9.237	7.943	6.935	6.136	5.492	4.964	4.524	4.154	3.839	3.567	3.331	3.123	2.500
28	21.281	16.663	13.406	11.051	9.307	7.984	6.961	6.152	5.502	4.970	4.528	4.157	3.840	3.568	3.331	3.124	2.500
29	21.844	16.984	13.591	11.158	9.370	8.022	6.983	6.166	5.510	4.975	4.531	4.159	3.841	3.569	3.332	3.124	2.500
30	22.396	17.292	13.765	11.258	9.427	8.055	7.003	6.177	5.517	4.979	4.534	4.160	3.842	3.569	3.332	3.124	2.500

- ٨- تتضمن الإفصاحات النوعية في معيار الإبلاغ المالي ٧
- أ- عرض المخاطر وكيفية تسويتها ب- الأهداف والسياسات والعمليات والانشطة المتخذة من لادارة هذه المخاطر والطرق المستخدمة لقياس هذه المخاطر ج- (أ + ب)
- ٩- اي من المعلومات التالية لا يتطلب الإفصاح عنها حول التعرض للمخاطر الناتجة عن الادوات المالية بموجب معيار الإبلاغ المالي ٧
- أ- معلومات نوعية وكمية حول مخاطر السوق ب- معلومات نوعية وكمية حول مخاطر الائتمان ج- معلومات نوعية وكمية حول مخاطر السيولة د- معلومات نوعية وكمية حول المخاطر التشغيلية
- ١٠- يتم تطبيق معيار الإبلاغ المالي ١٥ على كافة العقود مع العملاء باستثناء ما يلي :
- أ- عقود الأيجار والتي تخضع لنطاق معيار ١٧ IAS . ب- عقود التأمين والتي تخضع لنطاق معيار الإبلاغ المالي رقم ٤ IFRS . ج- الأدوات المالية والحقوق والالتزامات التعاقدية ضمن نطاق المعايير: ٩ IFRS و ١١ IFRS و ٢٧ IAS و ٢٨ IAS . د- عمليات التبادل غير النقدية بين المنشآت العاملة في نفس نوع الصناعة والهادفة لتسهيل عملية بيع السلع للعملاء، هـ- جميع مما ذكر

(١٠ درجات)

السؤال الثاني : حدد يكون العبارة صحيحة ام خاطئة لكل مما يلي

- ١- في عقد الأيجار تمويلي يتحمل المستأجر الخسائر من التقلبات في القيمة العادلة للقيمة المضمونة للأصل المستأجر
- (أ - صح ب - خطأ)
- ٢- تمثل خاصيتي الملائمة والتمثيل الصادق من الخصائص النوعية الرئيسية للمعلومات المحاسبية
- (أ - صح ب - خطأ)
- ٣- اساليب تقييم القيمة العادلة تركز فقط على منهج السوق
- (أ - صح ب - خطأ)
- ٤- يعرف العقد على انه اتفاق بين طرفين او اكثر والذي يؤدي الى نشو حقوق والتزامات تعاقدية
- (أ - صح ب - خطأ)
- ٥- ٢٠١٩/٤/١ استأجرت شركة الشروق معدات بعقد ايجار تشغيلي من الشركة الدولية لمدة سنة وبلغ عقد الأيجار ٥٠٠٠٠٠٠ دينار سنويا وتم دفع المبلغ في بداية العقد فان مصروف الأيجار الذي سيظهر في حساب الأرباح والخسائر لشركة الشروق هو ٣٧٥٠٠٠٠ دينار
- (أ - صح ب - خطأ)
- ٦- تعرف القيمة العادلة هي المبلغ الذي سيتم استلامه اذا تم بيع الاصل او دفعه لتسديد الالتزام في عملية اعتيادية بين اطراف مشاركة في الاسواق النظامية بتاريخ قياس القيمة العادلة
- (أ - صح ب - خطأ)
- ٧- يصنف مخصص قضايا مقامة على الشركة على انه اداة مالية
- (أ - صح ب - خطأ)
- ٨- تصنف الاصول غير الملموسة على انها من الاصول المالية
- (أ - صح ب - خطأ)
- ٩- يظهر ح/ ايراد فائدة في سجلات المؤجر عند عقود التأجير التمويلية
- (أ - صح ب - خطأ)
- ١٠- تعترف الشركة بأصل ما نتيجة العقد بموجب معيار الإبلاغ ١٥ اذا كانت الحقوق المكتسبة اكبر من التزامات الاداء في العقد
- (أ - صح ب - خطأ)

السؤال الثالث/ في ٢٠٢٠/٤/٣٠ اشترت شركة الصناعات الوطنية ٥٠٠٠ سهم من اسهم شركة الخياطة الحديثة لأغراض المتاجرة بسعر ١٥٠ دينار للسهم وبلغت القيت عمولة الشراء المدفوعة نقدا ٢٥٠٠٠٠٠ دينار

في ٢٠٢٠/٣/١١٢ بلغت القيمة العادلة لسهم شركة الخياطة الحديثة ١٧٠ دينار

٢٠٢١/١٢/٣١ تم بيع ٢٥٠٠ سهم سعر السهم الواحد ١٨٠ دينار
 ٢٠٢١/١٢/٣١ بلغت القيمة العادلة للسهم ٢٠٠ دينار

١- اثبات قيد شراء الاسهم في دفاتر شركة الصناعات الوطنية ٢٠٢١/٤/٢
 ٤- اثبات قيد التقييم في ٢٠٢١/١٢/٣١
 ٢- اثبات قيد التقييم في ٢٠٢٠/١٢/٣١ ٣- اثبات قيد (١٠ درجات)

الرابع/ في ٢٠١٨/١/١ اتفقت الشركة المنافذ مع شركة الرواد على تأجير معدات بعقد ايجار تمويلي لمدة ٣ سنوات وبلغت
 الحاسبة لدفعات ايجار المعدات ١٠٠٠٠٠٠ دينار اما قيمة الدفعة الاجارية السنوية ٣٩٥٠٦ دينار تدفع في نهاية كل سنة بمعدل
 % : المطلوب/ ١- ما القيد الذي يهر في دفاتر شركة المنافذ ٢- ما هو القيد الذي يظهر في دفاتر شركة الرواد ٣- مبلغ
 التاجر السنوي الذي يظهر في كل عام على مدار العقد في دفاتر شركة المنافذ ٤- قيد تسجيل الدفعة السنوية الثانية في دفاتر
 المنافذ ٥- قيد استلام الدفعة السنوية الثالثة في دفاتر شركة الرواد ٦- مقدار الالتزامات غير المسددة للسنة الاولى في دفاتر
 المنافذ ٧- مقدار الذمم المدينة المحصلة للسنة الثانية الظاهرة في دفاتر شركة الرواد ٨- مجموع الالتزامات المتداولة للسنة
 التي تظهر في نهاية السنة لميزانية شركة المنافذ ٩- مجموع الالتزامات غير المتداولة للسنة الاولى التي تظهر في نهاية
 ميزانية شركة المنافذ ١٠- قيد ارجاع المعدات من شركة المنافذ الى شركة الرواد (١٢ درجات)

الخامس : في ٢٠٢٠ / ١ / ١ وقعت شركة الشرق عقد إنشائي مع احد العملاء بقيمة ١٠٠٠٠٠٠٠ دينار، وقد قدرت شركة
 ان اتمام العقد يتطلب تكاليف إجمالية مقدارها ٨١٠٠٠٠٠ دينار ويستغرق انجازه مدة ٣ سنوات. وتوفرت لديك المعلومات التالية

السنة ٢٠٢٢	السنة ٢٠٢١	السنة ٢٠٢٠	
٨١٠٠٠٠	٧٢٠٠٠٠	٣٠٠٠٠٠	الفعلية المتراكمة حتى تاريخه (١٢/٣١)
-----	٨٠٠٠٠٠	٦٠٠٠٠٠٠	المقرر حدوثها لإتمام العقد وفق تقديرات نهاية العام

سبب :

١- تحديد نسبة الانجاز لكل عام من الأعوام الثلاث وفقا لأسلوب المدخلات .

٢- تخصيص نفقات وايرادات وأرباح أو خسائر العقد للفترة المحاسبية وفقا لطريقة نسبة الإنجاز / أسلوب المدخلات .

(٨ درجات)

(٨ درجات)

السادس: اجب عن كل مما يأتي

١- معيار الإبلاغ المالي رقم ٩ في بعض الحالات يبيع الاصول المالية التي يكون الهدف من نموذج اعمال المنشأة هو الاحتفاظ
 المالية بهدف جمع التدفقات النقدية التعاقدية عدد ثلاث حالات

٢- الاتساق والقابلية على المقارنة بين مقاييس القيمة العادلة والافصاحات ذات العلاقة يصنف معيار ١٣ اساليب التقييم لقياس
 عدالة ضمن مستويات قيمة العادلة وضح التسلسل الهرمي للقيمة العادلة

العميد

الرئيس القسم

مدرس المادة

أ.د. عبد الحسين توفيق شبلي

أ.م.د. الهام جعفر حميد

أ.د. فاطمة جاسم محمد



الإجابة عن خمسة أسئلة . لكل سؤال ١٠ درجات

بعض المعايير العامة للتدقيق ان يكون مراقب الحسابات مؤهلاً علمياً ومهنياً لكي يتمكن من أداء واجبه المهني إنما هو متوقع منه . ما هي السياسات والإجراءات التي يتطلب وضعها من قبل مراقب الحسابات لتحقيق ذلك ؟

يستخدم مراقب الحسابات للتدقيق ثلاثة سجلات وملفات (كحد أدنى) عددها وعرف كل سجل منها مع ذكر ثلاثة

المرح بالتفصيل مفهوم (الإيضاحات ، التحفظات ، الملاحظات) مع بيان أقسامها وامثلة عنها .

عدد الإجراءات التي يتخذها مراقب الحسابات للتعرف على جميع الأحداث اللاحقة التي قد تتطلب تعديل البيانات المالية أو تقديم أية إيضاحات عنها حتى تأريخ تقريره .

بصفتك مراقب حسابات خارجي بين أي من العبارات التالية صحيحة واياها خاطئة :
بعد ان يتعرف مراقب الحسابات على النظام المحاسبي ونظام الرقابة الداخلية يجب عليه القيام بالتقديرات الأولية للاختبارات الجوهرية .
بما أن وضع أنظمة الرقابة الداخلية من مسؤولية الإدارة ويجب أن تتضمن إجراءات الضبط الداخلي المناسب فإن ذلك يعني مراقب الحسابات من تقييم تلك الإجراءات .

لا يمكن لمراقب الحسابات استخدام الجداول والتحليل المعدة من قبل المنشأة واعتمادها كأوراق عمل في إنجاز عملية التدقيق .

إن الاستفسارات الهامة (الجوهرية) التي لم يجد لها مراقب الحسابات رداً مقنعاً من قبل المنشأة يقوم بحذفها.

على مراقب الحسابات أن يؤرخ ويوقع تقريره بتاريخ انتهاء فحصه الذي يتضمن أداءه للإجراءات اللازمة المتعلقة بالأحداث التي تقع لغاية التاريخ المدون على التقرير .

تختلف المعلومات التي يحتاجها مراقب الحسابات لتخطيط عملية تدقيق ما تبعاً لرغبته في التدقيق ومدى تعاون إدارة الجهة الخاضعة للتدقيق .

لا يمكن لمراقب الحسابات تعديل تقييمه السابق عن كفاية نظام الرقابة الداخلية في ضوء الأخطاء التي يتم اكتشافها في الاختبارات الجوهرية .

تعتبر الإدارة هي المسؤولة عن تبليغ مراقب الحسابات بأية أحداث قد تؤثر على البيانات المالية وتقع خلال الفترة المحصورة بين تاريخ تقريره وتاريخ المصادقة على البيانات المالية ومناقشة تقرير مراقب الحسابات .

تعتبر أوراق العمل من ممتلكات مراقب الحسابات ويستطيع في بعض الحالات التي يرى فيها ضرورة إعطاء بعضاً منها للمنشأة على أن لا تعتبر بديلاً عن سجلاتها .

لا تستلزم إجراءات التدقيق المتعارف عليها اتخاذ موقف مستقل في التفكير الذهني لمراقب الحسابات

٦/س اختر الإجابة الصحيحة لما يأتي :
١- إذا تطلب الأمر وحسب فناعة مراقب الحسابات تعديل البيانات المالية ورفضت الإدارة إجراء ذلك التعديل ي

على مراقب الحسابات:
أ- أن يحتفظ في رأيه
ب- أو أن يبدي رأياً سلبياً
ج- أن ينسحب من مهمة التدقيق
د- (أ) أو (ب) صحيحة وحسب مقتضى الحال

٢- عند حدوث أخطاء جوهرية في الحسابات دون ان تتوفر إمكانية منعها او كشفها في الوقت المناسب من خلا النظام المحاسبي ونظام الرقابة الداخلية ، فإن هذه المخاطر تسمى :
أ- مخاطر ضمنية
ب- مخاطر رقابة
ج- مخاطر اكتشاف
د- (ب) و (ج) صحيحة

٣- الجهة التي يوجه اليها تقرير مراقب الحسابات :
أ- الهيئة العامة للشركة
ب- المساهمين
ج- الجهة التي قامت بتعيين مراقب الحسابات
د- جميع ما ذكر

٤- يعتبر تاريخ تقرير مراقب الحسابات بمثابة :
أ- تاريخ نهاية السنة المالية
ب- تاريخ بداية عملية التدقيق
ج- تاريخ الانتهاء من عملية التدقيق
د- (ب) و (ج) صحيحة

٥- واحد مما يأتي لا يعتبر من معايير العمل الميداني :
أ- التخطيط لعملية التدقيق .
ب- الاشراف على المساعدين .
ج- جمع الأدلة والقرائن .
د- الالتزام بأداب وسلوك المهنة .

٦- اذا علم مراقب الحسابات بوجود أحداث وقعت بعد تاريخ تقريره ولكن قبل المصادقة وإصدار البيانات الماليه
أ- عليه ان يعتذر عن ابداء الرأي
ب- عليه أن يناقش الأمر مع الإدارة
ج- عليه ان يقوم بتعديل البيانات المالية
د- لا شيء مما ذكر اعلاه

٧- تكون الخطة العامة للتدقيق :-

أ- سنوية فقط
ب- سنوية أو نصف سنوية أو فصلية أو وفقاً لحاجة أو طبيعة العمل على أن تكون اكثر تفصيلاً
ج- اعتماد خطط قصيرة الأمد كأن تكون نصف سنوية أو فصلية فقط
د- وفقاً لحاجة أو طبيعة العمل على أن تكون اكثر تفصيلاً

٨- على مراقب الحسابات اعتماد المعايير الأساسية للتدقيق في :
أ- كل الأمور والحالات التي يحتمل ان يكون لها تأثير على قرارات مستخدم البيانات المالية.
ب- بعض الحالات الهامة التي تؤثر على قرارات مستخدم البيانات المالية .
ج- حسب رغبة مراقب الحسابات وخطة التدقيق المرسومة.
د- لا شيء مما ذكر اعلاه .

٩- يعتبر رأي مراقب الحسابات تعبيراً عن فناعته بوجود التزام بالامور ادناه ، واحدة مما يأتي ليست صحيحة :
أ- وجود إيضاحات كافية للامور الهامة بشأن البيانات المالية .
ب- ان البيانات المالية تعبر عن المركز المالي ونتائج النشاط .
ج- أن مراقب الحسابات قام باعداد الحسابات بصورة صحيحة .
د- التزام الإدارة بالقوانين والأنظمة في اعداد البيانات المالية .

١٠- في حالة توصل مراقب الحسابات لأي من الاستنتاجين (عدم وجود جدوى من الاستمرار بتقويم النظام ، المبالغ المنفقة على فحص وتقويم نظام الرقابة الداخلية تفوق المنافع المتوقعة من ذلك الفحص) فإنه :
أ- يقدم اعتذاره وينسحب من مهمة التدقيق
ب- يبدي رأياً سلبياً بالبيانات المالية ويقدم تقريره للادارة
ج- يصمم برنامجاً مكثفاً للاختبارات الجوهرية دون الاعتماد على أي من اجراءات الرقابة الداخلية.
د- (ب) و (ج) صحيحة

نتمنى لكم النجاح والتوفيق

العميد
أ.د. عبدالحسين توفيق شليم

رئيس القسم
أ.م.د. الهام جعفر الشاوي

مدرس المادة
م.د. عدي جواد على



مقر: الجامعة العراقية - بغداد
الكلية: الاقتصاد والعلوم الإدارية
الجامعة: البصرة

Q 1/ ANSWER A or B
A / Choose the correct answer:

1. If taxes are ignored, all of the following items are included in a discounted cash flow analysis except:
A) future operating cash savings.
B) depreciation expense.
C) future salvage value.
D) investment in working capital.

2. The internal rate of return for a project can be determined:
A) only if the project's cash flows are constant.
B) by finding the discount rate that yields a zero net present value for the project.
C) by subtracting the company's cost of capital from the project's profitability index.
D) only if the project profitability index is greater than zero.

3. In net present value analysis, the release of working capital at the end of a project should be:
A) ignored.
B) included as a cash outflow.
C) included as a cash inflow.
D) included as a tax deduction.

4. (Ignore income taxes in this problem.) Fossa Road Paving Company is considering an investment in a curb-forming machine. The machine will cost \$240,000, will last 10 years, and will have a \$40,000 salvage value at the end of 10 years. The machine is expected to generate net cash inflows of \$60,000 per year in each of the 10 years. Fossa's discount rate is 18%. What is the net present value of this machine?
A) \$5,840 B) \$37,280 C) \$(48,780) D) \$69,640

5. (Ignore income taxes in this problem.) The Laws company has decided to buy a machine costing \$16,000. Estimated cash savings from using the new machine amount to \$4,120 per year. The machine will have no salvage value at the end of its useful life of six years. If the required rate of return for Laws Company is 12%, the machine's internal rate of return is closest to:
A) 12% B) 14% C) 16% D) 18%

B / Answer 5 of the following sentences by TRUE or FALSE

1. Budgeting includes only the financial aspects of the plan and NOT any nonfinancial aspects such as the number of physical units manufactured.
2. A budget is the quantitative expression of a proposed plan of action by management for a specified period.
3. Budgets can play both planning and control roles for management.
4. A capital budget spans only a one-year period.

- The three common discounted cash flow methods are net present value, internal rate of return, and payback.
- The net present value (NPV) method calculates the expected monetary gain or loss from a project by discounting all expected future cash inflows and outflows back to the present point in time using the required rate of return.

2/ BASRAH Corporation has the following budgeted sales for the next six-month period: (10 Mark)

Month	Unit Sales	Month	Unit Sales
June	90,000	September	150,000
July	120,000	October	180,000
August	210,000	November	120,000

There were 30,000 units of finished goods in inventory at the beginning of June. Plans are to have an inventory of finished products that equal 20% of the unit sales for the next month. Five pounds of materials are required for each unit produced. Each pound of material costs \$3. Inventory levels for materials are equal to 30% of the needs for the next month. Materials inventory on June 1 was 15,000 pounds.

Required:

Prepare production budgets in units for July, August, and September.

Prepare a purchases budget in pounds for July, August, and September, and give total purchases in both pounds and dollars for each month.


(20 Mark)


3/ Baghdad Inc. is considering the acquisition of equipment that costs \$340,000 and has a useful life of 6 years with no salvage value. The incremental net cash flows that would be generated by the equipment are:

Net Cash Flows	
Year 1	\$94,000
Year 2	\$133,000
Year 3	\$96,000
Year 4	\$116,000
Year 5	\$115,000
Year 6	\$87,000

- If the discount rate is 17%, the net present value of the investment is closest to:
 A) \$45,811 B) \$385,811 C) \$301,000 D) \$117,341
- The payback period of this investment, rounded off to the nearest tenth of a year, is closest to:
 A) 3.9 years B) 3.6 years C) 3.1 years D) 5.0 years

(20 Mark)


 Instructor
 Dr. MOHANAD MOHAMED


 Head of Dept.
 Dr. ELHAM AL-SHAWI

p. D. Abdulhasan T. Shabli

EXHIBIT 20B-2

Present Value of an Annuity of \$1 in Arrears*

Periods	2%	4%	6%	8%	10%	12%	14%	16%	18%	20%	22%	24%	26%	28%	30%	32%	40%
1	0.980	0.962	0.943	0.926	0.909	0.893	0.877	0.862	0.847	0.833	0.820	0.806	0.794	0.781	0.769	0.758	0.714
2	1.942	1.866	1.833	1.783	1.736	1.690	1.647	1.605	1.566	1.528	1.492	1.457	1.424	1.392	1.361	1.331	1.224
3	2.884	2.775	2.673	2.577	2.487	2.402	2.322	2.246	2.174	2.106	2.042	1.981	1.923	1.868	1.816	1.766	1.589
4	3.808	3.630	3.465	3.312	3.170	3.037	2.914	2.798	2.690	2.589	2.494	2.404	2.320	2.241	2.166	2.096	1.849
5	4.713	4.452	4.212	3.993	3.791	3.605	3.433	3.274	3.127	2.991	2.864	2.745	2.635	2.532	2.436	2.345	2.035
6	5.601	5.242	4.917	4.623	4.355	4.111	3.889	3.685	3.498	3.326	3.167	3.020	2.885	2.759	2.643	2.534	2.168
7	6.472	6.002	5.582	5.206	4.868	4.564	4.288	4.039	3.812	3.605	3.416	3.242	3.083	2.937	2.802	2.677	2.263
8	7.325	6.733	6.210	5.747	5.335	4.968	4.639	4.344	4.078	3.837	3.619	3.421	3.241	3.076	2.925	2.786	2.331
9	8.162	7.435	6.802	6.247	5.759	5.328	4.946	4.607	4.303	4.031	3.786	3.566	3.366	3.184	3.019	2.868	2.379
10	8.983	8.111	7.360	6.710	6.145	5.650	5.216	4.833	4.494	4.192	3.923	3.682	3.465	3.269	3.092	2.930	2.414
11	9.787	8.760	7.887	7.139	6.495	5.938	5.453	5.029	4.656	4.327	4.035	3.776	3.543	3.335	3.147	2.978	2.438
12	10.575	9.385	8.384	7.536	6.814	6.194	5.660	5.197	4.793	4.439	4.127	3.851	3.606	3.387	3.190	3.013	2.456
13	11.348	9.986	8.853	7.904	7.103	6.424	5.842	5.342	4.910	4.533	4.203	3.912	3.656	3.427	3.223	3.040	2.469
14	12.106	10.563	9.295	8.244	7.367	6.628	6.002	5.468	5.008	4.611	4.265	3.962	3.695	3.459	3.249	3.061	2.478
15	12.849	11.118	9.712	8.559	7.606	6.811	6.142	5.575	5.092	4.675	4.315	4.001	3.726	3.483	3.268	3.076	2.484
16	13.578	11.652	10.106	8.851	7.824	6.974	6.265	5.668	5.162	4.730	4.357	4.033	3.751	3.503	3.283	3.088	2.489
17	14.292	12.166	10.477	9.122	8.022	7.120	6.373	5.749	5.222	4.775	4.391	4.059	3.771	3.518	3.295	3.097	2.492
18	14.992	12.659	10.828	9.372	8.201	7.250	6.467	5.818	5.273	4.812	4.419	4.080	3.786	3.529	3.304	3.104	2.494
19	15.678	13.134	11.158	9.604	8.365	7.366	6.550	5.929	5.353	4.870	4.460	4.110	3.808	3.546	3.316	3.113	2.497
20	16.351	13.590	11.470	9.818	8.514	7.469	6.623	5.929	5.353	4.870	4.460	4.110	3.808	3.546	3.316	3.113	2.498
21	17.011	14.029	11.764	10.017	8.649	7.562	6.687	5.973	5.384	4.891	4.476	4.121	3.816	3.551	3.320	3.118	2.498
22	17.658	14.451	12.042	10.201	8.772	7.645	6.743	6.011	5.410	4.909	4.488	4.130	3.822	3.550	3.323	3.118	2.498
23	18.292	14.857	12.303	10.371	8.883	7.718	6.792	6.044	5.432	4.925	4.499	4.137	3.827	3.559	3.325	3.120	2.499
24	18.914	15.247	12.550	10.529	8.985	7.784	6.835	6.073	5.451	4.937	4.507	4.143	3.831	3.562	3.327	3.121	2.499
25	19.523	15.622	12.783	10.675	9.077	7.843	6.873	6.097	5.467	4.948	4.514	4.147	3.834	3.564	3.329	3.122	2.499
26	20.121	15.983	13.003	10.810	9.161	7.896	6.906	6.118	5.480	4.956	4.520	4.151	3.837	3.566	3.330	3.123	2.500
27	20.707	16.330	13.211	10.935	9.237	7.943	6.935	6.136	5.492	4.964	4.524	4.154	3.839	3.567	3.331	3.123	2.500
28	21.281	16.663	13.406	11.051	9.307	7.984	6.961	6.152	5.502	4.970	4.528	4.157	3.840	3.568	3.331	3.124	2.500
29	21.844	16.984	13.591	11.158	9.370	8.022	6.983	6.166	5.510	4.975	4.531	4.159	3.841	3.569	3.332	3.124	2.500
30	22.396	17.292	13.765	11.258	9.427	8.055	7.003	6.177	5.517	4.979	4.534	4.160	3.842	3.569	3.332	3.124	2.500



Q 1// True or False

- 1- A favorable sales variance reflects an decrease in operating income.
- 2- When the actual market share is less than budget market share variance is unfavorable.
- 3- Sales quantity variance can be decomposed into market share variance and market price variance.
- 4- In ABC, activity cost is assigned to resources.
- 5- ABC is generally more costly to implement than Traditional costing.
- 6- Because activities driver. The cost of resources used in operations, a company should choose resource consumption cost drivers based on cause-and-effect.
- 7- In backflush costing, two trigger points purchase of direct material and incurring of conversion cost (stage A) and completion goods finished of product (stage).
- 8- One of the elements of JIT is the reorganization of the plant within form a pools.
- 9- Cost incur for defective product after shipment to customers is classified as internal failure cost.
- 10- Supplier evaluations is one element of Appraisal costs.
- 11- Quality is one that meets or exceeds customer expectation.
- 12- The split off point is where the joint products become separate and identifiable.
- 13- The product has low sales value compared with the sales value of the main product called joint product.
- 14- Split-off point is the point of processing at which the point products are separated individual product.
- 15- ABC system is less accurate product costing its provide less accurate and informat product costs.

15 m

Q 2// Choice the correct answer:

- 1- Market share variance result from a difference between the:
 - a- Actual and budgeted market size x budget market share x budget contribution margin per unit.
 - b- Actual and budget market size x actual market share x budget contribution margin per unit.
 - c- Actual and budgeted market size x budget market share x budget contribution margin.
 - d- Actual and budgeted market size x actual market share x budget contribution margin.
- 2- Sales mix variance equals the difference between:
 - a- Actual sales mix and budget sales mix x budget units sold for all product x budget contribution margin per unit.

- b- Actual sales mix and budget sales mix x budget units sold for all product x actual contribution margin per unit.
- c- Actual sales mix and budget sales mix x actual units sold for all product x budget contribution margin per unit.
- d- Actual sales mix and budget sales mix x actual units sold for all product x actual contribution margin per unit.
- 3- The static budget variance will be favorable when:
- a- Actual unit sales are less than budgeted unit sales.
- b- The actual contribution margin is greater than the static budget contribution margin
- c- The actual sales mix shift toward the less profitable unit.
- d- the average contribution for the actual mix greater than for the budget mix.
- 4- Poskey Corporation uses an ABC system with three activity cost pools. The company has provided the following data concerning its costs and its activity based costing system:

Distribution of resources consumption
Activity cost pools

costs		Assembly	setting up	other	total
wages and salaries	\$400,000	40%	40%	20%	100%
Depreciation	160,000	20%	35%	45%	100%
Utilities	100,000	25%	55%	20%	100%

The total cost would be allocated in the first stage allocation to the Assembly activity cost pool:

- a- \$187,000 b- \$264,000 **c- \$217,000** d- \$165,000

5- The first stage of ABC entails the assignment of:

- a- resource costs to department. b- activity costs to product. 320
- c- resource costs to distribution channels. d- resource costs to individual activities

6- Al Basrah company produce three kinds of hats: rain hat, dust hat, and snow hat. The three products require 80, 60, 180, setups. The budgeted machine setups cost are \$384. The amount of machine setups costs allocated to three products is:

- a- \$128, \$128, \$128. b- \$80, \$60, \$180. **c- \$96, \$72, \$216.** d- \$72, \$128, \$184.

7- Games company manufactures various gams. For March, there were no beginning inventories of direct material and no beginning or ending work in process. Conversion costs are the only indirect manufacturing cost category currently used. Journal entries are recorded when materials are purchased and when conversion costs are allocated under backflush costing. Conversion costs March \$400, Direct material purchased Marsh \$1070, Units produced March 58,800, units sold 41,800, the journal entries properly records the purchase of direct material is:

- a- A/P control 1070 **b- Material and in process control 1070** A/p control 1070

Material and in process control 1070 A/p control 1070

Material and in process control 1070
conversion costs 1070

d- conversion costs 1070
material and in process control 1070

8- In backflash costing, alternative 3, the journal entry of completion of finished units is:

a- by finished goods control

To standard conversion cost allocated

b- by finished goods control
direct material

work in process control

c-by finished goods control

To accounts payable

d-by finished goods control

To, work in process control

Standard conversion cost allocated

9- A company adopted a JIT system for:

a- Avoids a buildup of parts and inventory.

b- provides an accurate cost allocation.

c- Replaces direct allocation method of assigning overhead cost.

d-Is based on a demand push theory.

10- Cost incur for defective products before their shipment to customers can be categorized as:

a- prevention costs.

b- External failure costs.

c-Appraisal costs.

d- internal failure costs.

11- An example of appraisal costs is:

a- product inspection. b-process engineering. C-Rework d- warranty repair

12- Money spent on employee training is a :

a- Empowerment cost. b- Appraisal cost. c-prevention cost. d-pareto cost

13- Al shams company produce two product x and y in a single joint process . last month the joint costs were \$75,000 when 10,000 units of product x and 15,000 units of product y were produced, additional processing costs were \$15,000 for product x and \$10,000 for product y, product x sells for \$10, and product y sells for \$5. The joint cost allocated to product x and y using the physical units method would be:

a- \$42,500: \$32,500.

b- \$30,000:45,000.

c- \$45,000: \$30,000.

d-Another answer.

14- When a joint production process yields two or more products with high total sales values, these products are called:

a- main product.

b-scrap.

C-byproducts.

d- Joint product.

15- All costs incurred after the split-off point that are assignable to one or more individual products are called:

a-Separable costs.

b- byproduct costs.

c- main costs.

d- joint costs.

Answer 2 of the following:

Q3// Kardlan company manufactures two types of soap, Budgeted and actual operating data for 2022 are as follows :

15 marks

Budget data	Selling price per units	Variable cost per units	Units sold
Normal soaps	\$20	\$12	10,000
Luxury soaps	\$40	\$30	5,000

Actual data:	Selling price per units	Variable cost per units	Units sold
Normal soaps	\$19	\$10	12,000
Luxury soaps	\$42	\$35	4,000

The company estimated budget market size of 50,000 units and budget market share of 30%. The actual market size is 64,000 units and actual market share is 25%.
Required: Compute all sales variance.

10 marks

Q 4//: Jardon company cleaning Brigade company provides housecleaning services to its clients. The company uses an activity-based costing system for its overhead costs. the company has provided data from its ABC costing system

Activity cost pool	Total cost	Total Activity
Cleaning	\$274,170	48,100 hours
Job support	\$99,066	5,700 jobs
Client support	\$9,796	620 clients
Other	\$110,000	Not applicable

The other activity cost pool consists of the costs of idle capacity and organization sustaining costs. One particular client, the Lazzara family requested 37 jobs during the year that required a total of 222 hours of housecleaning. For this service, the client was charged \$2,350.

Required: (a) using the ABC costing system compute the customer margin for the Lazzara family .
(b) Assume the company decides instead to use a traditional costing system in which all costs are allocated to customers on the basis of cleaning hours. Compute the margin for the Lazzara family.


10 marks


Q 5// Al Messar company produce and sells watches. The following data is pertaining to cost of quality in two years:


Details	2020(in\$)	2021(in\$)
sales	3,920,000	3,520,000
Cost of quality:		
Scrap	28,800	30,100
Warranty repair	70,000	75,000
Repair of returned product units	272,000	195,000
Preventive maintenance	220,000	152,000
Incoming material testing	105,000	75,000
Product inspection	150,000	150,000

Required: Compute cost of quality as a percentage of sales for each of the two years.

10 marks


A.D. Abdulahseen.T.Shable
Dean

Good luck

A.P.D. Elaham J. Hamed
Head of Department


A.P. Fayhaa A. Mahmmod
Lecturer